



مجاناً
عنها
٣٦٩

أولاً : تدريبات الكتاب المدرسي على الدرس الثالث

س١ اختر الإجابة الصحيحة مما بين الأقواس :

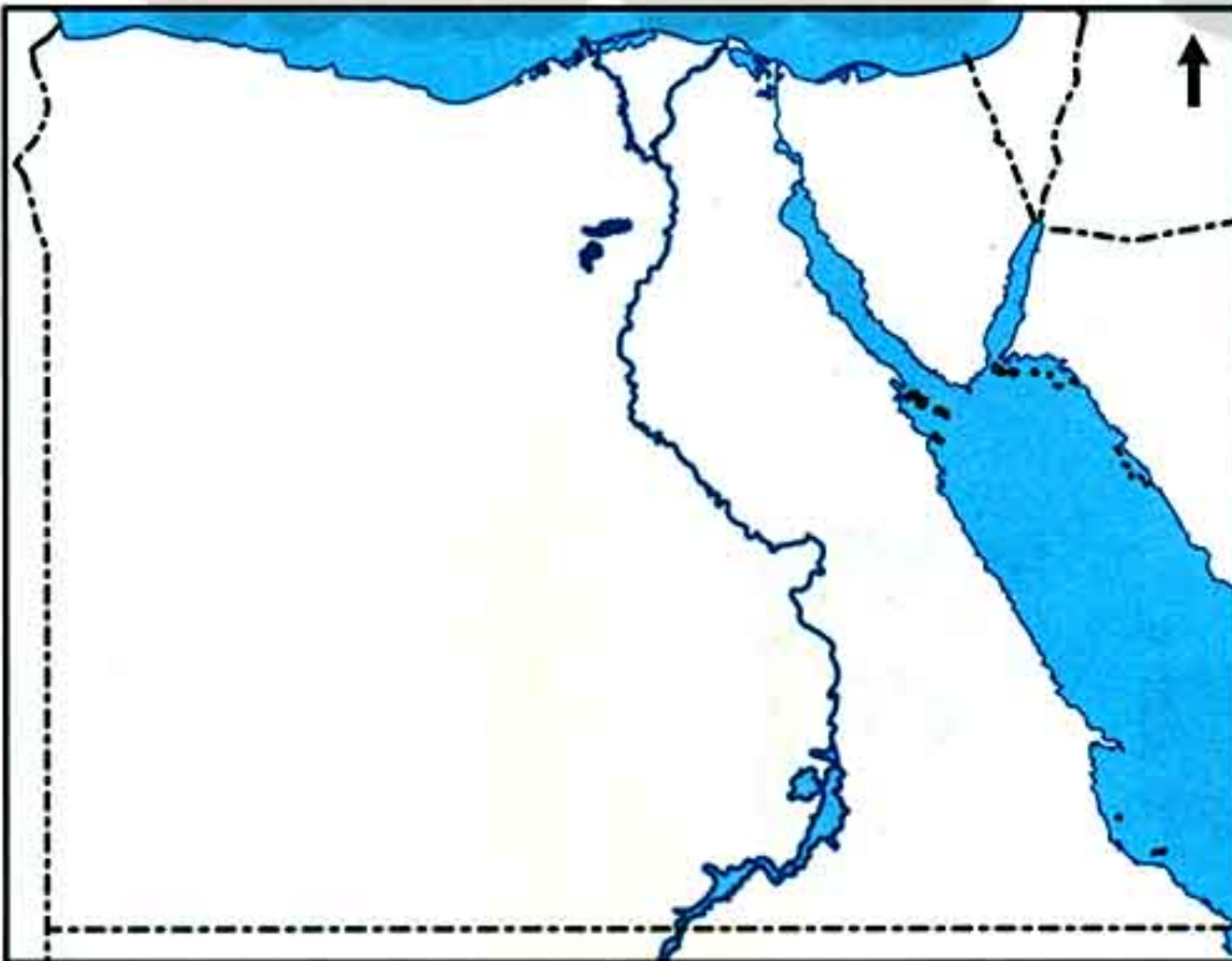
- ١ - أهم حيوانات الرعى في البيئة الصحراوية (الإبل - الكبش الجبلي - الثعالب - الفهد)
- ٢ - يوجد الذهب في مناجم بالصحراء الشرقية .
- ٣ - من أهم المحاصيل الغذائية في البيئة الصحراوية (أم بجمة - السكرى - أبو طرطور - السباعية)
- ٤ - تقوم صناعة حفظ التمور على أشجار (الدوم - التين الشوكي - الشعير - الصبار)
- ٥ - من أشهر القبائل التي تعمل بحرفة الرعى في الصحراء الغربية قبيلة أولاد (عامر - على - عابد - الشهري)

س٢ بم تفسر :

تنوع الأنشطة الاقتصادية في البيئة الصحراوية ؟

س٣ صوب ما تحته خط في العبارات الآتية :

- ١ - حرفة الصناعة هي الحرفة الرئيسة لسكان البيئة الصحراوية .
- ٢ - يتركز السكان في منطقة أبو طرطور حيث يتم تعدين الحديد .
- ٣ - يستخرج الذهب من مناجم أم بجمة بالصحراء الشرقية .
- ٤ - من المناظر الطبيعية الخلابة التي تجذب السياح الصحراء البيضاء بواحة الداخلة .



وزع على خريطة مصر
الصماء مناطق استخراج
الثروة المعدنية ومصادر
الطاقة داخل البيئة
الصحراوية المصرية
مستخدفا الرموز والألوان
المناسبة :





حل التدريب

مجاب
عها
٣٦٩

ثانياً: تدريبات سلاح التلميذ على الدرس الثالث

س ١ أكمل العبارات التالية بما يناسبها من كلمات :

- ١ - تتنوع الأنشطة الاقتصادية في البيئة الصحراوية بسبب تنوع
- ٢ - ينتقل السكان في البيئة الصحراوية من مكان لآخر بحثاً عن و
- ٣ - من القبائل التي تعمل بحرفة الرعي في الصحراء الغربية قبيلة بينما تعيش قبائل العباددة في الصحراء
- ٤ - من الحبوب الغذائية في البيئة الصحراوية و بينما أشجار و من النباتات الشجرية .
- ٥ - تعتمد الزراعة في الواحات على المياه
- ٦ - من أهم حيوانات الرعي في البيئة الصحراوية و و
- ٧ - تقوم صناعة في البيئة الصحراوية بسبب كثرة أشجار النخيل ووفرة الأيدي العاملة .
- ٨ - من المحاصيل الزراعية التي تستخدم في علاج الأمراض (الدقهلية ٢٠١٩)
- ٩ - يستخرج معدن الفوسفات من بالصحراء الغربية، بينما يستخرج من أم بجمة .
- ١٠ - يتم استخراج الحديد من الواحات بالصحراء الغربية ويستخرج الذهب من مناجم بالصحراء الشرقية .
- ١١ - توجد محمية الصحراء البيضاء في واحة بالصحراء الغربية . (السويس ٢٠١٩)
- ١٢ - من المزارات السياحية في شبه جزيرة سيناء و وتعتبر زيارتها سياحة
- ١٣ - تقوم صناعة في البيئة الصحراوية اعتماداً على وفرة صوف الأغنام ووبر الإبل .

س ٢ اختر الإجابة الصحيحة مما بين القوسين :

- ١ - أحد الأنشطة الاقتصادية بالبيئة الصحراوية ويعتمد على التنقل والترحال بحثاً عن الماء والعشب (الزراعة - الصناعة - التعدين - الرعي)
- ٢ - يوجد الذهب في مناجم بالصحراء الشرقية . (السكري - الواحات - أبو طرطور - السباعية)
- ٣ - من أشهر القبائل التي تعمل بحرفة الرعي في الصحراء الشرقية قبائل (أولاد علي - العباددة - عامر - الشهري)
- ٤ - تنتشر الزراعة في البيئة الصحراوية بمناطق (التعدين والبترو - استخراج الذهب - الواحات - جبال البحر الأحمر)
- ٥ - يستخرج معدن من الواحات البحرية . (المنجنيز - الذهب - الفوسفات - الحديد)
- ٦ - يستخرج البترول والغاز الطبيعي من الصحراء الغربية . (شمال - غرب - جنوب - شرق)
- ٧ - تقوم صناعة حفظ التمور على أشجار (الزيتون - التين الشوكي - النخيل - الصبار)
- ٨ - من مظاهر السياحة الدينية بالبيئة الصحراوية زيارة (الصحراء البيضاء - جبل موسى - فتادق الواحات - العيون المائية)
- ٩ - من أهم الحبوب الغذائية في البيئة الصحراوية (الدوم - القطن - الشعير - التين الشوكي)
- ١٠ - من الحيوانات النادرة في البيئة الصحراوية (الإبل - الماعز - الأغنام - الكبش الجبلي)

هذا العمل خاص بموقع ذاكرولي التعليمي ولا يسمح بتداوله على مواقع أخرى



٣ اس اكتب كلمة (صواب) أمام العبارة الصحيحة، وكلمة (خطأ) أمام العبارة غير الصحيحة مع التصويب :

- ١ - تعيش قبيلة أولاد علي في محافظة مطروح بالصحراء الغربية . (المنوفية ٢٠١٩) ()
- ٢ - ترتبط الصناعات الحرفية في البيئة الصحراوية بوفرة الموارد اللازمة للصناعة . ()
- ٣ - تعد السياحة من الأنشطة الاقتصادية المهمة في البيئة الصحراوية . (الدقهلية ٢٠١٩) ()
- ٤ - تستخدم النباتات الطبية في علاج بعض الأمراض . (الغربية ٢٠١٩) ()
- ٥ - من حيوانات الرعى في البيئة الصحراوية الفهد . (الشرقية ٢٠١٨) ()
- ٦ - يستخرج الذهب من منجم أم بجمة بشبه جزيرة سيناء . ()
- ٧ - يتركز السكان في المراكز العمرانية القريبة من (أبوظرطور) حيث يتم استخراج معدن الحديد . ()
- ٨ - من المناظر الطبيعية التي تجذب السياح في البيئة الصحراوية الصحراء البيضاء . ()
- ٩ - تتعدد المزارات السياحية في البيئة الصحراوية . (القاهرة ٢٠١٨) ()
- ١٠ - يعد جبل موسى من مزارات السياحة الدينية في البيئة الصحراوية . ()
- ١١ - القمح والشعير من المحاصيل المهمة لسد حاجة سكان البيئة الصحراوية الغذائية . ()
- ١٢ - تعتمد الزراعة في الواحات على مياه نهر النيل . (الفيوم ٢٠١٩) ()



حل التدريب

٤ اس بم تفسر ؟

- ١ - تنوع الأنشطة الاقتصادية في البيئة الصحراوية .
- ٢ - انتشار صناعة حفظ التمور في البيئة الصحراوية .
- ٣ - انتشار صناعة السجاد اليدوي في البيئة الصحراوية .
- ٤ - قيام الزراعة في الواحات .
- ٥ - أهمية النباتات الطبية .
- ٦ - عمل بعض سكان البيئة الصحراوية بالتعدين .
- ٧ - الأهمية الاقتصادية لحيوانات الرعى في البيئة الصحراوية .
- ٨ - أهمية الحبوب الغذائية في البيئة الصحراوية .
- ٩ - تنقل سكان الصحراء من مكان إلى آخر .
- ١٠ - تعتبر السياحة من الأنشطة الاقتصادية المهمة في البيئة الصحراوية .

(الغربية ٢٠١٩)

٥ اس ما النتائج المترتبة على ؟

- ١ - تنوع الموارد الطبيعية في البيئة الصحراوية .
- ٢ - وفرة المياه الجوفية في الواحات .
- ٣ - توافر أصواف الأغنام ووبر الإبل في البيئة الصحراوية .
- ٤ - كثرة أشجار النخيل في البيئة الصحراوية .
- ٥ - انتشار الموارد المعدنية والبتترول في البيئة الصحراوية .
- ٦ - انتشار المناظر الطبيعية الخلابة في البيئة الصحراوية .
- ٧ - تعدد المزارات الدينية في شبه جزيرة سيناء .

(كفر الشيخ ٢٠١٩)

(الجيزة ٢٠١٩)

هذا العمل خاص بموقع ذاكرولى التعليمى ولا يسمح بتداوله على مواقع أخرى





س ٦ : صوب ما تحته خط :

(الدقهلية ٢٠١٩)

(الجيزة ٢٠١٨)



حل التدريب

(القاهرة ٢٠١٩)

- ١ - يستخرج الفوسفات من سواحل خليج السويس في سيناء .
- ٢ - يقوم بحرفة الرعى في الصحراء الشرقية قبائل أولاد علي .
- ٣ - يتركز السكان في منطقة أم بجمة حيث يتم استخراج الحديد .
- ٤ - من حيوانات الرعى في البيئة الصحراوية الأبقار .
- ٥ - يعمل عدد كبير من سكان البيئة الصحراوية بالصيد وتفرغ السفن .
- ٦ - يقوم بحرفة الرعى في محافظة مطروح بالصحراء الغربية قبيلة العبادة .
- ٧ - يستخرج معدن الفوسفات من خليج السويس .
- ٨ - من الصناعات الحرفية بالبيئة الصحراوية صناعة السيارات .
- ٩ - من الحبوب الغذائية في البيئة الصحراوية أشجار النخيل والزيتون .
- ١٠ - من الحيوانات البرية النادرة في البيئة الصحراوية الإبل .
- ١١ - تستخدم المحاصيل الغذائية في علاج الكثير من الأمراض .

س ٧ : ماذا يحدث إذا لم ؟:

- ١ - تتنوع الموارد الطبيعية في البيئة الصحراوية .
- ٢ - تتوافر أصواف الأغنام ووبر الإبل في البيئة الصحراوية .
- ٣ - تتوافر أشجار النخيل في البيئة الصحراوية .
- ٤ - تتوافر المناظر الطبيعية الخلابة والمزارات السياحية في البيئة الصحراوية .
- ٥ - تنتشر الموارد المعدنية والبتروول في البيئة الصحراوية .

س ٨ : اكتب المصطلح الجغرافي الذي تشير إليه العبارة :

- ١ - من أشهر القبائل التي تعمل بحرفة الرعى في محافظة مطروح بالصحراء الغربية . (.....)
- ٢ - نشاط يقوم به بعض سكان البيئة الصحراوية ويعتمد على التنقل من مكان لآخر بحثاً عن الماء والعشب . (.....)
- ٣ - النباتات التي تستخدم في علاج بعض الأمراض . (الإسكندرية ٢٠١٨) (.....)

(يجب عنه التلميذ)

«يعمل سكان البيئة الصحراوية بالعديد من الأنشطة الاقتصادية» في ضوء العبارة أجب عما يلي:



- وضح أبرز مواقع استقرار البدو في البيئة الصحراوية.
- ما مقترحاتك للحفاظ على الموارد في البيئة الصحراوية؟
- ضع دائرة حول الكلمة المختلفة:

- أ النخيل - الزيتون - المشمش - الصبار
- ب القمح - الشعير - قصب السكر - الزيتون
- ج الماعز - الجاموس - الإبل - الأغنام

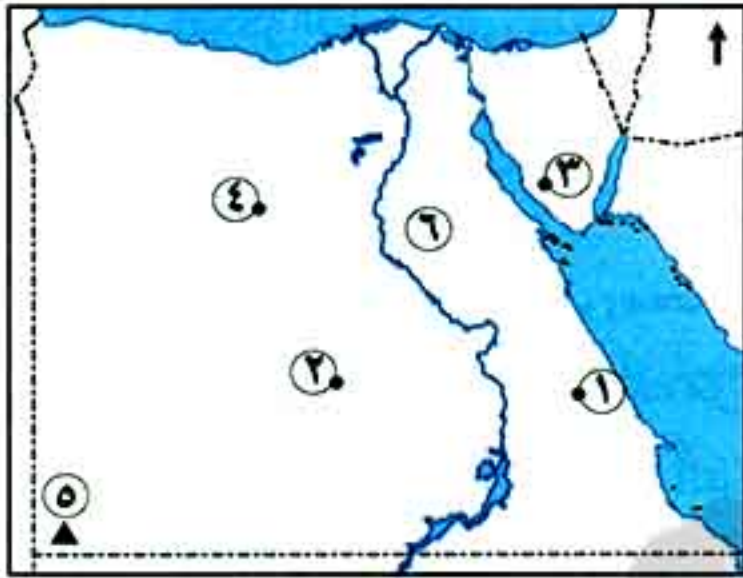
نم
مهاراتك



(يجب عنه التلميذ)

اختبار على ما سبق

س ١ | أمامك خريطة صماء لمصر ، اكتب مدلول الأرقام الموقعة عليها :



- ١ - منطقة لاستخراج الذهب
- ٢ - منطقة لاستخراج الفوسفات
- ٣ - منطقة لاستخراج المنجنيز
- ٤ - منطقة لاستخراج الحديد
- ٥ - جبل
- ٦ - هضبة

ب | بم تفسر ؟

- ١ - قلة عدد سكان البيئة الصحراوية رغم اتساع مساحتها .
- ٢ - أهمية حيوانات الرعى في البيئة الصحراوية .

س ٢ | اكتب كلمة (صواب) أمام العبارة الصحيحة، وكلمة (خطأ) أمام العبارة غير الصحيحة ، مع التصويب :

- ١ - يعتمد سكان الواحات على مياه الأمطار في الزراعة . ()
- ٢ - توجد هضبة الجلالة البحرية في صحراء مصر الشرقية . ()
- ٣ - من العادات الإيجابية لسكان البيئة الصحراوية إكرام الضيف . ()
- ٤ - يتم استخراج البترول من سواحل خليج السويس في سيناء . ()

ب | ما النتائج المترتبة على : تنوع الموارد الطبيعية في البيئة الصحراوية ؟

س ٣ | أكمل العبارات التالية بكلمات مناسبة :

- ١ - تعيش قبائل العبادية في الصحراء ويعملون بحرفة
- ٢ - من القمم الجبلية القبايية في سيناء جبل
- ٣ - يتسم مناخ البيئة الصحراوية بانخفاض درجة الحرارة في فصل خاصة في الليل .
- ٤ - تسقط أمطار فجائية في الصحراء وتتجمع في شكل داخل الأودية الجافة .

ب | ما المقصود بالمصطلح الجغرافي الآتي ؟: البيئة الصحراوية .

س ٤ | صف الظواهر الجغرافية التالية ، حسب الجدول :



٢ - هضبة مارماريكا .

٤ - وادي العريش .

١ - بحر الرمال العظيم .

٣ - سلاسل جبال البحر الأحمر .

شبه جزيرة سيناء	الصحراء الغربية	الصحراء الشرقية
.....
.....

ب | حدد اثنتين من مناطق الزراعة (الواحات) في صحراء مصر الغربية .

هذا العمل خاص بموقع ذاكرولى التعليمى ولا يسمح بتداوله على مواقع أخرى



أولاً : تدريبات الكتاب المدرسي على الدرس الرابع

س ١ : بم تفسر ؟

- ١ - الاهتمام بالمشروعات السياحية في البيئة الصحراوية .
- ٢ - إقامة سد الروافعة على وادي العريش .
- ٣ - استزراع الكتبان الرملية في بعض مناطق البيئة الصحراوية .
- ٤ - إنشاء شبكة من الطرق في المناطق الصحراوية .
- ٥ - تعرض بعض المناطق الزراعية في البيئة الصحراوية للتصحّر .
- ٦ - حفر الآبار العميقة في مناطق استصلاح الأراضي .

س ٢ : « تعاني البيئة الصحراوية من عدة مشكلات » .. على ضوء هذه العبارة حدد :

- ١ مشكلات البيئة الصحراوية .
- ٢ جهود الدولة لحل هذه المشكلات .

س ٣ : اكتب كلمة (صواب) أمام العبارة الصحيحة، وكلمة (خطأ) أمام العبارة غير الصحيحة ، مع التصويب :

- ١ - يؤدي تملح التربة إلى انخفاض إنتاجها . ()
- ٢ - أقيم مشروع استزراع الكتبان الرملية جنوب واحة الفرافرة لتثبيت الرمال . ()
- ٣ - يعد حفر الآبار العميقة من المشاريع المهمة لاستصلاح الأراضي كما في الصحراء الشرقية . ()
- ٤ - تؤدي السيول إلى تدمير الحقول الزراعية والمباني . ()

س ٤ : ما النتائج المترتبة على ؟

- ١ - تحرك الرمال في البيئة الصحراوية .
- ٢ - ندرة الأمطار في البيئة الصحراوية .
- ٣ - زيادة استهلاك المياه في البيئة الصحراوية .

اكتشف كلمة السر :

ر	ط	ا	ل	ت	م	ر
د	ة	ب	ل	ح	م	ا
ب	ة	ع	ا	د	م	م
و	ي	ل	ل	ا	و	س
ب	ر	ة	ي	ا	ة	ة
ة	ع	ح	ي	و	ح	ف

كلمة السر

اشطب من الجدول الحروف التي تكوّن الكلمات التالية، ثم يتبقى لديك مجموعة من الحروف رتبها لتعرف كلمة السر، ثم سجل عنها بعض المعلومات في حدود سطرين :

- ١ - رمال .
- ٢ - واحة .
- ٣ - محمية طبيعية .
- ٤ - التربة .
- ٥ - بدو .



العب مع سلاح التلميذ

هذا العمل خاص بموقع ذاكرولي التعليمي ولا يسمح بتداوله على مواقع أخرى



ص ٢٧٠
مصاب

تدريبات سلاح التلميذ على الدرس الرابع

ثانياً :

س ١ : أكمل العبارات التالية بما يناسبها من كلمات :

- ١ - من أهم المشكلات التي تواجه البيئة الصحراوية و و
- ٢ - ندرة تؤثر سلباً على نمو النباتات الطبيعية في البيئة الصحراوية .
- ٣ - تدهور التربة الزراعية وانخفاض قدرتها الإنتاجية يعرف باسم (السويس ٢٠١٩)
- ٤ - يتم استزراع الكثبان الرملية جنوب واحة تثبيتاً لرمالها ومراقبة حركتها .
- ٥ - تتحرك الرمال في الصحراء بفعل ، ومن أضرارها إتلاف
- ٦ - تؤدي السيول إلى تدمير و مما يؤدي لتعطيل حركة النقل .
- ٧ - أنشئ سد على وادي العريش لحجز المياه والاستفادة منها وقت الحاجة .
- ٨ - يقوم مشروع شرق العوينات اعتماداً على المياه عن طريق حفر الآبار .
- ٩ - تعاني البيئة الصحراوية من تملح التربة بسبب تبخر وترسب على سطحها .
- ١٠ - توجد محمية جزر سالوجا وغزال في ، ومحمية وادي الريان في
- ١١ - أنشأت الدولة شبكة من الطرق لربط الصحراء ب

(القاهرة ٢٠١٩)

س ٢ : اختر الإجابة الصحيحة مما بين القوسين :

- ١ - تؤدي إلى ردم الآبار وزيادة التصحر . (ندرة المياه - حركة الرمال - السيول - تملح التربة)
- ٢ - قامت الدولة بمشروع استزراع الكثبان الرملية جنوب واحة (الداخلة - الخارجة - سيوة - الفرافرة)
- ٣ - تدهور التربة الزراعية وانخفاض قدرتها الإنتاجية يسمى (تملح التربة - التصحر - حركة الرمال - استزراع الكثبان الرملية)
- ٤ - أنشئ سد الروافعة على وادي (مطروح ٢٠١٩) (العريش - قنا - العلاقي - أسيوط)
- ٥ - تقع محمية وادي الريان في محافظة (شمال سيناء - أسوان - الفيوم - الوادي الجديد)

س ٣ : اكتب كلمة (صواب) أمام العبارة الصحيحة، وكلمة (خطأ) أمام العبارة غير الصحيحة ، مع التصويب :

- ١ - ينخفض منسوب المياه الجوفية في الآبار بسبب الإسراف في استخدام المياه في الزراعة . ()
- ٢ - تؤدي حركة الرمال بفعل الرياح إلى حفر الآبار في البيئة الصحراوية . (القاهرة ٢٠١٩) ()
- ٣ - تؤدي السيول إلى تدمير الحقول الزراعية والمباني . ()
- ٤ - يؤدي تصحر التربة إلى انخفاض قدرتها الإنتاجية . ()
- ٥ - أدى تبخر المياه في الصحراء إلى تراكم الأملاح على سطح التربة . ()
- ٦ - تقع محمية سالوجا في شمال سيناء . ()
- ٧ - أقيم مشروع استزراع الكثبان الرملية في جنوب واحة الفرافرة لتثبيت الرمال . ()
- ٨ - تقع محمية وادي الريان في الفيوم . ()
- ٩ - من جهود الدولة لتنمية البيئة الصحراوية حفر الآبار العميقة واستصلاح الأراضي . ()
- ١٠ - أنشأت الدولة سد الروافعة على وادي قنا لحجز مياه السيول والاستفادة منها . (الغربية ٢٠١٩) ()



حل التدريب

هذا العمل خاص بموقع ذاكرولى التعليمي ولا يسمح بتداوله على مواقع أخرى



س ٤: بم تفسر؟

(الإسكندرية ٢٠١٨)

(القريبة ٢٠١٩)

(بنى سويف ٢٠١٩)

(الدقهلية ٢٠١٩)

- ١ - انخفاض منسوب المياه في الآبار .
- ٢ - إنشاء الدولة لشبكة من الطرق في البيئة الصحراوية .
- ٣ - لحركة الرمال آثارها السلبية على البيئة الصحراوية .
- ٤ - تملح التربة في بعض المناطق بالبيئة الصحراوية .
- ٥ - استزراع الكثبان الرملية في مناطق كثيرة من الصحارى .
- ٦ - اهتمام الدولة بإنشاء السدود على الأودية الجافة .
- ٧ - إنشاء سد الروافعة على وادى العريش .
- ٨ - تعرض بعض المناطق الزراعية للتصحّر .

س ٥: ما النتائج المترتبة على؟

(المنيا ٢٠١٨)

(الدقهلية ٢٠١٩)

- ١ - الإسراف في استخدام المياه الجوفية في البيئة الصحراوية .
- ٢ - ندرة الأمطار في المناطق الصحراوية .
- ٣ - حركة الرمال التي تسببها الرياح في البيئة الصحراوية .
- ٤ - حدوث السيول في البيئة الصحراوية .
- ٥ - إنشاء سد الروافعة على وادى العريش .
- ٦ - تبخر المياه من التربة وترسب الأملاح على سطحها .

س ٦: صوب ما تحته خط :



حل التديب

- ١ - تدهور التربة الزراعية وانخفاض قدرتها الإنتاجية يعرف باسم حركة الرمال .
- ٢ - قامت الدولة بإنشاء القناطر على الأودية الجافة التي تتعرض للسيول وفقاً لأسس عشوائية .
- ٣ - اهتمت الدولة بالمحميات الطبيعية لتنمية البيئة الصحراوية مثل محمية وادى الريان في أسوان .
- ٤ - توجد محمية جزر سالوجا وغازال بالصحراء الشرقية .

س ٧: ماذا يحدث إذا؟

(القريبة ٢٠١٩)

- ١ - لم تتراكم الرمال على الطرق في البيئة الصحراوية .
- ٢ - نجحت الدولة في استزراع الكثبان الرملية .
- ٣ - أسرف سكان الصحارى في استخدام المياه الجوفية .
- ٤ - نجحت جهود الدولة في تنمية البيئة الصحراوية .
- ٥ - لم تهتم الدولة بإنشاء شبكة طرق في البيئة الصحراوية .

ب اكتب المصطلح الجغرافى الذى تشير إليه كل عبارة :

- ١ - وجود كميات كبيرة من الرمال المفككة تقوم الرياح بتحريكها من مكان لآخر . (.....)
- ٢ - تدهور التربة الزراعية وانخفاض قدرتها الإنتاجية . (الجيزة ٢٠١٨) (.....)
- ٣ - تراكم الأملاح على سطح التربة وداخل مسامها . (الدقهلية ٢٠١٩) (.....)



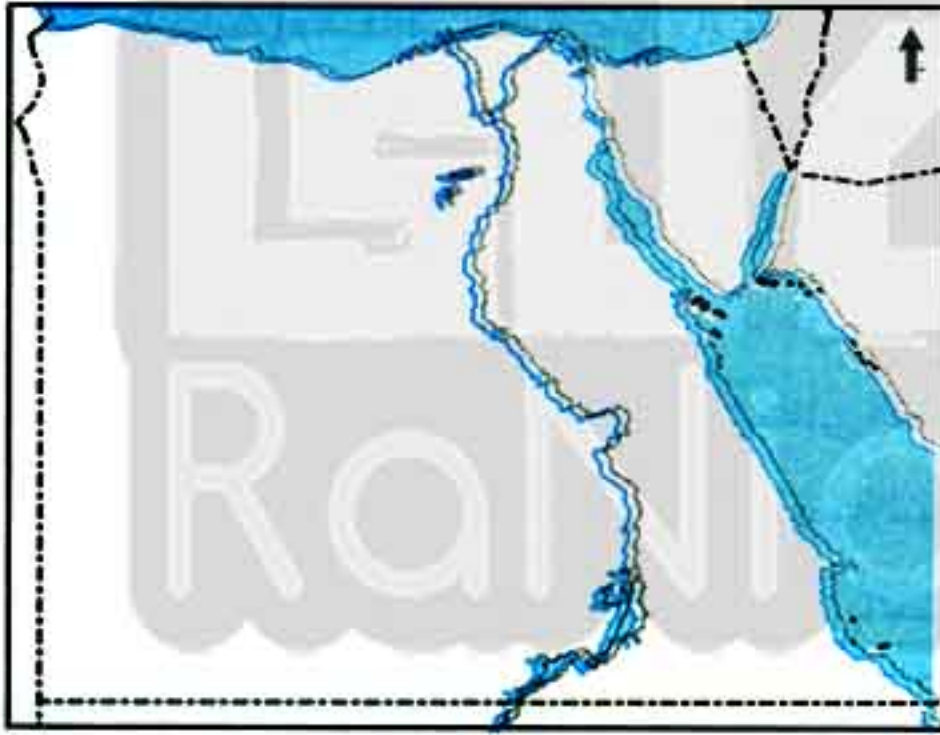
س ٨ : أجب عما يلي :

- ١ - حدد الأضرار الناتجة عن حدوث السيول في البيئة الصحراوية .
- ٢ - وضح المشكلات البيئية في البيئة الصحراوية مع اقتراح حلول لها .
- ٣ - وضح جهود الدولة لتنمية البيئة الصحراوية .
- ٤ - أين يوجد كل من ؟ (سد الروافعة - محمية جزر سالوجا وغزال - محمية وادي الريان - محمية سانت كاترين) .
- ٥ - ما المقصود بالمصطلحات الجغرافية الآتية ؟ :
 أ التصحر .
 ب حركة الرمال .
- ٦ - ما مقترحاتك ل تنمية البيئة الصحراوية ؟
- ٧ - صنف المشكلات الآتية داخل الجدول :

(انتشار الأمية - تملح التربة - نقص الغذاء - السيول - الزواج المبكر - حركة الرمال)

مشكلات خاصة بالسكان	مشكلات خاصة بالبيئة
.....
.....
.....

س ٩ « تخيل أنك مسئول تم تكليفه بمتابعة عملية تنمية الصحراء المصرية » في ضوء ما سبق وضح ما يلي :



- ١ - الأضرار الناتجة عن حدوث السيول في البيئة الصحراوية .
- ٢ - مقترحاتك لتنمية البيئة الصحراوية وعلاج مشكلاتها البيئية ، وكيف سيتم تنفيذها ؟
- ٣ - وضح جهود الدولة التي تبذل حالياً لتنمية البيئة الصحراوية .
- ٤ - وضح على خريطة مصر الصماء التي أمامك :
مواقع أبرز المحميات البيئية التي أصبحت مسئولاً عنها .

(يجب عنه التلميذ)

تعانى البيئة الصحراوية من عدة مشكلات ، فى ضوء العبارة السابقة ، لاحظ مجموعة الصور التالية ، ثم استنتج :



مشكلة تملح التربة .

الآثار المترتبة عليها



مشكلة حركة الرمال .

الآثار المترتبة عليها



مشكلة السيول .

الآثار المترتبة عليها



أولاً : تدريبات الكتاب المدرسي على الدرس الأول

س ١ : ما المقصود بالمصطلحات الجغرافية التالية :

- ١ - الخليج . ٢ - الشعاب المرجانية . ٣ - الرأس الأرضي . ٤ - الشرم .

س ٢ : أكمل الفراغات التالية بكلمات مناسبة :

- ١ - تنتشر الشعاب المرجانية على ساحل نظرًا المياه و حركتها .
 ٢ - تمتد البيئة الساحلية على طول ساحل البحر المتوسط من شرق مدينة في أقصى الشرق حتى غرب مدينة غربًا .
 ٣ - تمتد البيئة الساحلية على طول ساحل البحر الأحمر من شرق مدينة إلى جنوب مدينة جنوبًا .
 ٤ - تنتشر البيئة الساحلية في مصر على طول ساحل البحر و ، وخليجي ،
 و
 ٥ - يتميز ساحل البحر بوجود الرءوس الأرضية مثل رأس

س ٣ : اكتب المصطلح الجغرافي المناسب لكل من العبارات الآتية :

- ١ - خليج ذو مدخل ضيق متعمق في اليابس .
 ٢ - امتداد أرضي من اليابس داخل البحر .
 ٣ - شريط سهلي قد يتسع أو يضيق تبعًا لاقتراب الجبال أو الهضاب من البحر ، ويتأثر مناخها وأعمال وعادات سكانها بالبحر .

س ٤ : بم تفسر ؟

- ١ - تفاوت اتساع السهل الساحلي على طول ساحل البحر الأحمر في مصر .
 ٢ - ضيق السهل الساحلي على خليج العقبة .
 ٣ - نمو الشعاب المرجانية على ساحل البحر الأحمر .

س ٥ : ما النتائج المترتبة على ؟

- ١ - صفاء مياه البحر الأحمر وهدوء حركتها .
 ٢ - سقوط الأمطار على ساحل البحر المتوسط .
 ٣ - انتشار الرمال الناعمة على ساحل البحر المتوسط .

س ٦ : قارن بين البيئة الساحلية على شاطئ كل من البحر المتوسط والبحر الأحمر من حيث :

الامتداد ، السهول الساحلية ، الرءوس الأرضية ، الخلجان .

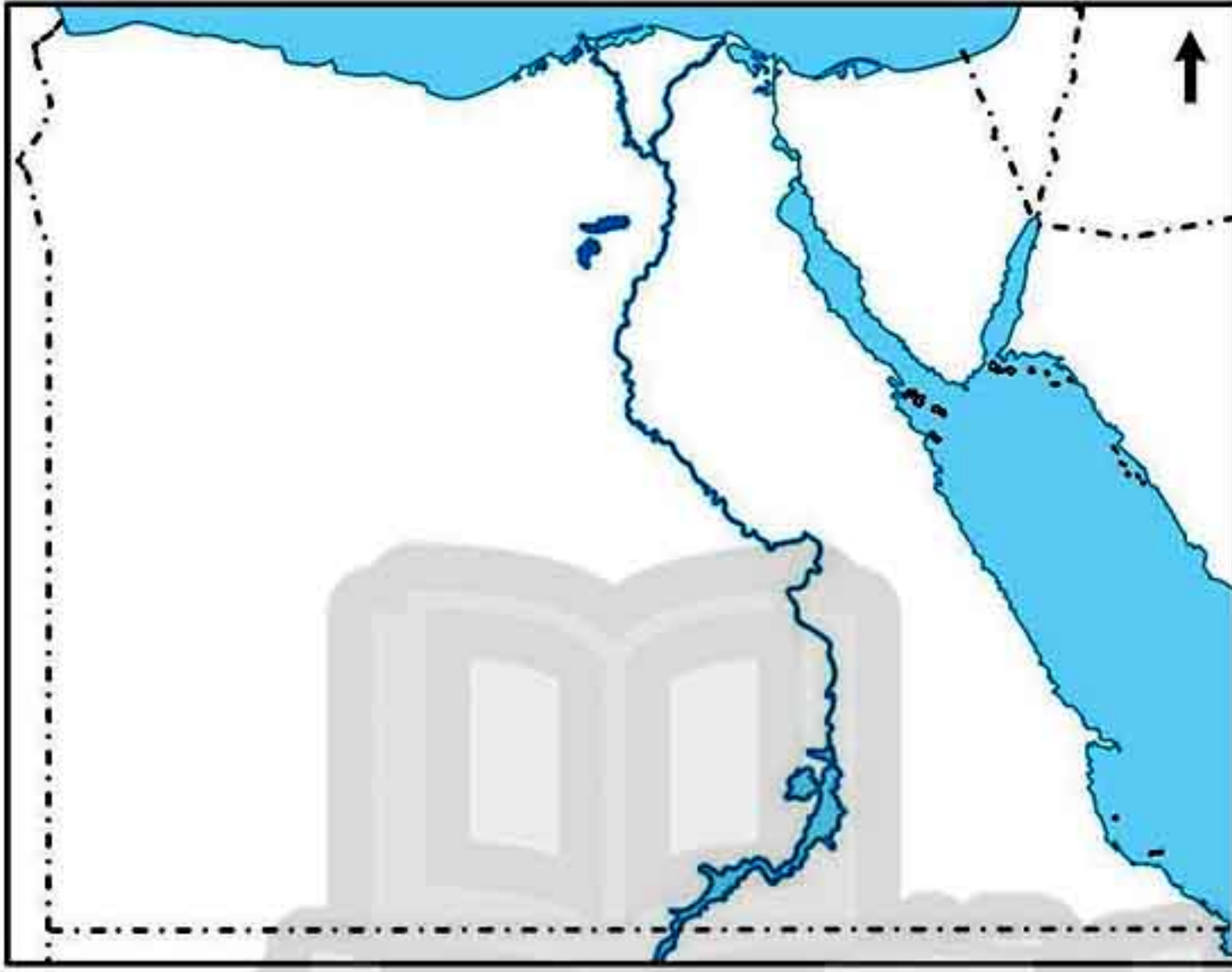
وجه المقارنة	البيئة الساحلية على ساحل البحر المتوسط	البيئة الساحلية على ساحل البحر الأحمر
الامتداد
السهول الساحلية
الرءوس الأرضية
الخلجان

هذا العمل خاص بموقع ذاكرولي التعليمي ولا يسمح بتداوله على مواقع أخرى



أمامك خريطة صماء لمصر وقع عليها ما يلي :

٧٠



- خليج العقبة .
- رأس الحكمة .
- مدينة الإسكندرية .
- خليج السويس .
- رأس بناس .
- مدينة الغردقة .



محتاج
عنها

تدريبات سلاح التلميذ على الدرس الأول

ثانياً :

س ١ أكمل العبارات التالية بما يناسبها من كلمات :

- ١ - عُرِفَت الحياة على سواحل البحار بالبيئة
- ٢ - تمتد البيئة الساحلية على البحر المتوسط من شرق مدينة شرقاً حتى غرب مدينة غرباً .
(الجيزة ٢٠١٩)
- ٣ - تمتد البيئة الساحلية على البحر الأحمر من شرق مدينة شمالاً حتى جنوب مدينة حيث الحدود المصرية مع جمهورية السودان .
(السويس ٢٠١٩)
- ٤ - يمتد ساحل شمال سيناء من مدينة حتى مدينة ، بينما يمتد الساحل الشمالي الغربي من مدينة حتى غرب مدينة
- ٥ - يمتد ساحل شمال الدلتا من مدينة حتى شرق مدينة
- ٦ - تمتد البيئة الساحلية للبحر الأحمر جنوب سيناء على سواحل خليج وخليج
- ٧ - من الظواهر الطبيعية للبيئة الساحلية الخلجان و الأرضية و
(الجيزة ٢٠١٩)
- ٨ - هو خليج ذو مدخل ضيق متعمق في اليابس .
- ٩ - تتميز السهول الساحلية المطلّة على البحر بالاتساع والانبساط .
- ١٠ - تتميز سهول البحر الأحمر ب..... لاقترب الجبال لكنها تتسع بشكل عام كلما اتجهنا نحو.....
- ١١ - تقوم بتخزين مياه الأمطار على طول الساحل الغربي لمصر .
- ١٢ - يتسم السهل الساحلي على خليج العقبة بالضيق بسبب الجبال من الساحل .
(القاهرة ٢٠١٩)
- ١٣ - يتميز ساحل البحر المتوسط بوجود العديد من المتسعة مثل خليج أبي قير .
- ١٤ - من الرؤوس الأرضية على ساحل البحر المتوسط رأس ورأس ورأس
- ١٥ - تتميز سواحل البحر الأحمر بتواجد العديد من الخلجان والشروم التي أنشئ عليها
- ١٦ - تقل الرؤوس الأرضية على طول البحر الأحمر مثل
- ١٧ - تعد المنتشرة على طول ساحل البحر الأحمر عاملاً مهماً من عوامل الجذب السياحي .
- ١٨ - تتميز البيئة الساحلية في مصر بحرارة طوال العام حيث يقوم بتلطيف حرارة الجو .
- ١٩ - تتعرض السواحل الشمالية على البحر المتوسط في الشتاء لرياح شديدة تعرف باسم
- ٢٠ - تسقط الأمطار على السواحل الشمالية لمصر في فصل
- ٢١ - توجد على سواحل البحر المتوسط حيوانات برية مثل و.....
- ٢٢ - من أهم النباتات الطبيعية في البيئة الساحلية للبحر الأحمر شجيرات
- ٢٣ - تنمو أشجار التين والزيتون على ساحل

هذا العمل خاص بموقع ذاكرولى التعليمي ولا يسمح بتداوله على مواقع أخرى



اكتب كلمة (صواب) أمام العبارة الصحيحة، وكلمة (خطأ) أمام العبارة غير الصحيحة مع التصويب :

س ٢

- ١ - السهول الساحلية المطلة على البحر المتوسط تتسم بالضيق لاقتراب الجبال منها . ()
- ٢ - تنتشر التلال الجيرية على ساحل البحر الأحمر . () (الغليوبية ٢٠١٩)
- ٣ - تنتشر الشعاب المرجانية على ساحل البحر الأحمر . ()
- ٤ - من أهم النباتات الطبيعية على ساحل البحر المتوسط شجيرات المانجروف . ()
- ٥ - تكثر الرءوس الأرضية على ساحل البحر الأحمر . ()
- ٦ - تهب النوات شتاءً على المناطق الساحلية بالبحر الأحمر . ()
- ٧ - تتساقط الأمطار الشتوية على طول ساحل البحر المتوسط . ()
- ٨ - من الخلجان الموجودة على ساحل البحر الأحمر خليج أبي قير . () (السويس ٢٠١٨)
- ٩ - يوجد رأس علم الروم ورأس الضبعة على ساحل البحر المتوسط . ()
- ١٠ - تمتد البيئة الساحلية للبحر الأحمر بين مدينتي رفح شرقاً والسلوم غرباً . ()
- ١١ - من الخصائص البشرية للبيئة الساحلية في مصر الموقع والمناخ . ()
- ١٢ - يمتد الساحل الشمالي الغربي من بورسعيد حتى شرق الإسكندرية . ()
- ١٣ - يقع ميناء نوبيع على ساحل البحر الأحمر . ()
- ١٤ - يتسم السهل الساحلي على خليج العقبة بالاتساع والامتداد . ()
- ١٥ - يتميز ساحل البحر المتوسط بالكثير من الرءوس مثل رأس بناس . ()
- ١٦ - الخليج هو امتداد أرضي من اليابس داخل البحر . ()
- ١٧ - الشرم هو خليج ذو مدخل ضيق متعمق في اليابس . ()
- ١٨ - يلعب البحر دوراً مهماً في ارتفاع درجة حرارة الجو . () (الحيزة ٢٠١٩)
- ١٩ - يمتاز مناخ البيئة الساحلية في مصر بصفة عامة بالاعتدال طوال العام . ()
- ٢٠ - تمتاز مناطق البيئة الساحلية للبحر الأحمر بندرة الأمطار . ()
- ٢١ - ينتج عن السيول تدمير الطرق والمنشآت . ()
- ٢٢ - تنتشر الحشائش والأعشاب التي تعد مراعى طبيعية للأغنام والماعز على ساحل البحر المتوسط . ()
- ٢٣ - تنمو شجيرات المانجروف في المناطق الطينية على ساحل البحر الأحمر . ()
- ٢٤ - تنتشر الغزلان والثعالب البرية على وادي النيل . ()



حل التدريب

بم تفسر ؟:

س ٣

- ١ - ضيق السهل الساحلي على خليج العقبة . () (القاهرة ٢٠١٩)
- ٢ - تعد البحار من الثروات الطبيعية المهمة لأي دولة . ()
- ٣ - أهمية التلال الجيرية الموجودة على طول الساحل الشمالي الغربي للبحر المتوسط . () (الإسكندرية ٢٠١٩)
- ٤ - انتشار الشعاب المرجانية على طول ساحل البحر الأحمر . ()



- ٥ - قيام الزراعة على سواحل البحر المتوسط .
- ٦ - اتساع السهل الساحلي المطل على البحر المتوسط في مصر .
- ٧ - تتميز البيئة الساحلية في مصر باعتدال درجة الحرارة طوال العام .
- ٨ - تفاوت اتساع السهل الساحلي على طول ساحل البحر الأحمر في مصر .
- ٩ - أهمية الحشائش والأعشاب الموجودة على ساحل البحر المتوسط .
- ١٠ - أهمية الشعاب المرجانية المنتشرة في مناطق متفرقة على طول ساحل البحر الأحمر .

اختر الإجابة الصحيحة مما بين القوسين :

- ١ - تتميز سواحل البحر الأحمر ب.....
(الجيزة ٢٠١٩)
(وجود الشعاب المرجانية - الشروم والخلجان - ندرة الأمطار - كل ما سبق)
- ٢ - تكثر على ساحل البحر المتوسط الخلجان المتسعة مثل.....
(خليج العرب - خليج أبي قير - خليج الحكمة - كل ما سبق)
- ٣ - من الرءوس الأرضية المطلة على البحر المتوسط رأس..... (علم الروم - بناس - حدربة - علم)
- ٤ - تنتشر على ساحل البحر الأحمر شجيرات..... (التين - الزيتون - المانجروف - كل ما سبق)
- ٥ - تنتشر الشروم على ساحل البحر الأحمر مثل شرم..... (الشيخ - الضبعة - علم الروم - العرب)
- ٦ - للبيئة الساحلية خصائص طبيعية مثل..... (الموقع - المناخ - النبات الطبيعي - كل ما سبق)
- ٧ - تمتد البيئة الساحلية على البحر الأحمر من شرق مدينة..... شمالاً حتى مدينة حلايب جنوباً .
(العريش - طابا - القاهرة - السلوم)
- ٨ - تتميز السهول الساحلية المطلة على البحر المتوسط ب.....
(الاتساع والانبساط - الضيق - كثرة الجبال - الشعاب المرجانية)
- ٩ - تنتشر على الساحل الشمالي الغربي لمصر سلاسل.....
(الجبال البركانية - الجبال الانكسارية - التلال الجيرية - البحيرات البركانية)
- ١٠ - تمثل..... المنتشرة في البحر الأحمر عاملاً مهماً للجذب السياحي .
(الشعاب المرجانية - النوات - السيول - الرياح)
- ١١ - تهب رياح شديدة وأمطار غزيرة شتاءً في المناطق الساحلية للبحر المتوسط وتعرف باسم.....
(النوة - السيول - البركان - التسونامي)

ما النتائج المترتبة على ما يلي ؟:

- ١ - سقوط الأمطار على ساحل البحر المتوسط شتاءً .
- ٢ - وجود التلال الجيرية على الساحل الشمالي الغربي لمصر .
(القاهرة ٢٠١٩)
- ٣ - هدوء المياه وارتفاع حرارتها وصفائها في البحر الأحمر .
(الجيزة ٢٠١٩)
- ٤ - اقتراب الجبال من خليج العقبة . ٥ - انتشار الشعاب المرجانية على سواحل البحر الأحمر .
- ٦ - سقوط أمطار فجائية شديدة على سواحل البحر الأحمر أحياناً .
- ٧ - أهمية الشروم والخلجان على ساحل البحر الأحمر .

هذا العمل خاص بموقع ذاكرولى التعليمي ولا يسمح بتداوله على مواقع أخرى



اكتب المصطلح الجغرافي الذي تشير إليه العبارات التالية :

٦ س

- ١ - امتداد أرضى من اليابس داخل البحر . (المنيا ٢٠١٨) (.....)
- ٢ - توغل لجزء من البحر فى اليابس ويتصل بالبحر بفتحة واحدة . (.....)
- ٣ - ساحل يمتد من مدينة بورسعيد حتى شرق مدينة الإسكندرية . (.....)
- ٤ - ساحل يمتد من مدينة الإسكندرية حتى غرب مدينة السلوم . (.....)
- ٥ - خليج ذو مدخل ضيق متعمق فى اليابس . (القاهرة ٢٠١٩) (.....)
- ٦ - تكوينات أفرزتها حيوانات بحرية دقيقة على طول امتداد سواحل البحر الأحمر فى مصر . (.....)
- ٧ - رياح شديدة وأمطار غزيرة تتسبب فى تقلب الجو وتستمر لعدة أيام متواصلة . (.....)
- ٨ - سهل ساحلى يمتد من شرق مدينة رفح حتى مدينة بورسعيد على البحر المتوسط . (.....)
- ٩ - أرض شبه مستوية السطح تمتد من خط الساحل إلى داخل اليابس . (.....)

قارن بين البيئة الساحلية المطلة على البحر المتوسط والبحر الأحمر من حيث : الامتداد ، والرءوس

٧ س

والخلجان ، والنباتات والأمطار ، والحيوانات البرية .

البيئة الساحلية المطلة على البحر الأحمر	البيئة الساحلية المطلة على البحر المتوسط	وجه المقارنة
.....	الامتداد
.....	الرءوس الأرضية
.....	الخلجان
.....	النباتات
.....	الأمطار
.....	الحيوانات البرية

صوب ما تحته خط :

٨ س

- ١ - تسقط الأمطار بشدة على ساحل البحر الأحمر وتسبب ما يعرف بالنوة .
- ٢ - تنتشر شجيرات المانجروف على ساحل البحر المتوسط .
- ٣ - من الرءوس الأرضية الموجودة على ساحل البحر الأحمر رأس الحكمة . (أسوان ٢٠١٩)
- ٤ - تنتشر الشعاب المرجانية بكثرة على ساحل البحر المتوسط .
- ٥ - يمثل الخليج امتداداً أرضياً من اليابس داخل البحر .
- ٦ - تسقط الأمطار على طول سواحل البحر المتوسط صيفاً . (البحيرة ٢٠١٩)
- ٧ - تمتاز البيئة الساحلية فى مصر بصفة عامة بارتفاع درجة الحرارة .



٩ س | ماذا يحدث إذا؟

- ١ - لم توجد سلاسل التلال الجيرية على طول الساحل الشمالي الغربي لمصر .
- ٢ - لم تشرف مصر بسواحل طويلة على البحرين الأحمر والمتوسط .
- ٣ - لم تسقط الأمطار شتاءً على البحر المتوسط .
- ٤ - زادت الأمطار على ساحل البحر الأحمر .
- ٥ - اقتربت المرتفعات من ساحل البحر المتوسط .
- ٦ - لم توجد الشعاب المرجانية على ساحل البحر الأحمر .

ب ما المقصود بالمصطلحات الجغرافية الآتية؟

(السهل الساحلي - البيئة الساحلية - الخليج - الرأس الأرضي - الشرم - الشعاب المرجانية) .

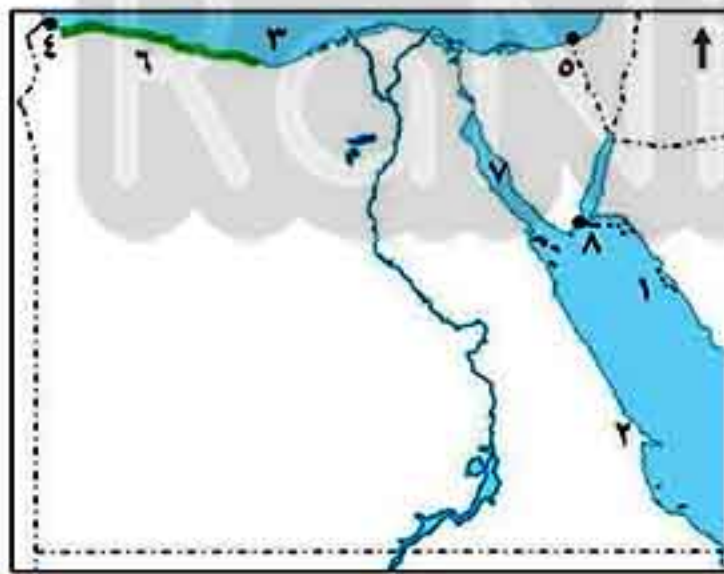
١٠ س | دلل جغرافيًا على صحة العبارات الآتية :

- ١ - تتميز مصر بوجود سهول ساحلية طويلة .
- ٢ - السهول الساحلية الشمالية بمصر صالحة للزراعة .
- ٣ - ينتشر على ساحل البحر المتوسط الكثير من الخلجان الواسعة .
- ٤ - مياه البحر الأحمر مناسبة لنمو الشعاب المرجانية .
- ٥ - الأمطار الساقطة على ساحل البحر الأحمر بمصر تسبب أضرارًا ومشكلات .

(الإسكندرية ٢٠١٩)

ب ما العلاقة بين كل مما يأتي؟

- ١ - مياه الأمطار الشتوية - التلال الجيرية على الساحل الشمالي الغربي لمصر .
- ٢ - الشروم والخلجان الموجودة على ساحل البحر الأحمر - الموانئ المهمة .



ج أمامك خريطة صماء لمصر ، اكتب مدلول الأرقام التي عليها :

- ١ - البحر
- ٢ - رأس
- ٣ - خليج
- ٤ - مدينة
- ٥ - مدينة
- ٦ - الساحل
- ٧ - خليج
- ٨ - مدينة

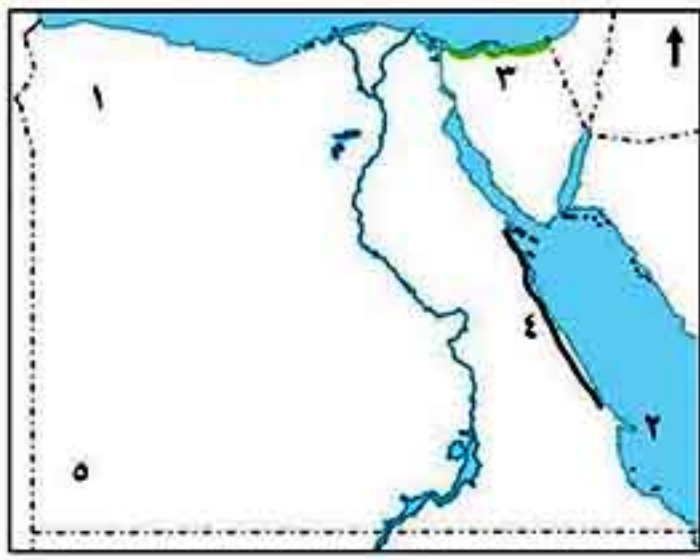
١١ س | صف حسب الجدول :

(أشجار الزيتون - الشعاب المرجانية الخلافة - شجيرات المانجروف - رأس بناس - شرم الشيخ - رأس الضبعة - خليج السويس - خليج الحكمة - مدينة الإسكندرية - مدينة الفردقة)

ساحل البحر المتوسط	ساحل البحر الأحمر
.....
.....
.....

اختبار تراكمي
على ما سبق

(يجب عنه التلميذ)



١ أمامك خريطة صماء لمصر ، اكتب مدلول الأرقام الموقعة عليها :

- ١ - هضبة
- ٢ - رأس
- ٣ - ساحل
- ٤ - سلاسل جبال
- ٥ - هضبة

ب أكمل العبارات التالية بما يناسبها من كلمات :

- ١ - السهول الساحلية تضيق أو تتسع حسب اقتراب أو بُعدها من الساحل .
- ٢ - تنتشر شجيرات و على ساحل البحر الأحمر .
- ٣ - تنتشر الشعاب المرجانية على ساحل البحر

٢ س ١ اكتب كلمة (صواب) أمام العبارة الصحيحة، وكلمة (خطأ) أمام العبارة غير الصحيحة مع التصويب :

- ١ - يحدث تملح التربة نتيجة تبخر المياه وترسب الملح على سطح التربة . ()
- ٢ - تنتشر الشروم على سواحل البحر المتوسط مثل شرم الشيخ . ()
- ٣ - تسقط الأمطار على ساحل البحر الأحمر شتاءً . ()

ب اقترح حلولاً : للمشكلات الاقتصادية في البيئة الصحراوية .

٣ س ١ بم تفسر ؟:

- ١ - أهمية التلال الجيرية على الساحل الشمالي الغربي لمصر .
- ٢ - الأمطار الفجائية تسبب مشكلات على ساحل البحر الأحمر .

ب صوب ما تحته خط : الزواج المبكر من أهم الخصائص التعليمية لسكان البيئة الصحراوية .

٤ س ١ ما النتائج المترتبة على ؟:

- ١ - قلة الموارد الطبيعية في البيئة الصحراوية .
- ٢ - إنشاء العديد من المدارس والكليات في البيئة الصحراوية .

ب قارن بين : ساحل البحر الأحمر وساحل البحر المتوسط من حيث النباتات الطبيعية والحيوانات البرية في كل منهما .

لمزيد من الأسئلة وإجاباتها ارجع إلى موقع سلاح التلميذ على الإنترنت

www.selaheltelmeez.com



مجان
عنها

أولاً : تدريبات الكتاب المدرسي على الدرس الثاني

س ١ : أكمل العبارات التالية بكلمات مناسبة :

- ١ - تولى سعد زغلول عام ١٩٠٦ م نظارة وعام ١٩١٠ م وزارة
- ٢ - فى ديسمبر ١٩١٤ م أعلنت إنجلترا على مصر .
- ٣ - يرتبط اسم بالاستقلال الاقتصادى لمصر .
- ٤ - استطاع طلعت حرب تأسيس
- ٥ - ساهم بنك مصر فى تمويل المشروعات

س ٢ : اكتب كلمة (صواب) أمام العبارة الصحيحة ، وكلمة (خطأ) أمام العبارة غير الصحيحة فيما يلى :

- ١ - أدى ازدياد الوعى القومى لدى المصريين إلى قيام ثورة ١٩١٩ م . ()
- ٢ - رفضت سلطات الاحتلال سفر أعضاء الوفد المصرى إلى إنجلترا . ()
- ٣ - ألقى القبض على سعد زغلول ومجموعة من أعضاء الوفد المصرى قبل الحرب العالمية الأولى . ()
- ٤ - ساعدت رءوس الأموال الأجنبية فى التنمية الاقتصادية لمصر . ()
- ٥ - أسس طلعت حرب بنك مصر برءوس أموال مصرية . ()

س ٣ : بم تفسر ؟

- ١ - قيام ثورة ١٩١٩ م .
- ٢ - الصدام بين أعضاء الوفد المصرى وسلطات الاحتلال البريطانى .
- ٣ - تُعد ثورة ١٩١٩ م ثورة شعبية .
- ٤ - ارتباط استقلال مصر السياسى باستقلالها الاقتصادى .
- ٥ - إنشاء طلعت حرب بنك مصر عام ١٩٢٠ م .

س ٤ : ما النتائج المترتبة على ؟

- ١ - مقاطعة المصريين للبضائع الإنجليزية .
- ٢ - تصريح ٢٨ فبراير ١٩٢٢ م .
- ٣ - رفض مؤتمر الصلح فى باريس لمطالب الوفد المصرى .
- ٤ - رفض سلطات الاحتلال البريطانى سفر الوفد المصرى إلى مؤتمر الصلح بباريس .
- ٥ - تمويل بنك مصر للصناعات الوطنية .

س ٥ : ما المقصود بالمصطلح التاريخى : استقلال مصر الاقتصادى ؟

هذا العمل خاص بموقع ذاكرولى التعليمى ولا يسمح بتداوله على مواقع أخرى

مجاب
عنها

ثانياً : تدريبات سلاح التلميذ على الدرس الثاني

س١

أكمل العبارات التالية بما يناسبها من كلمات :

- ١ - تأسس بنك في عام ١٩٢٠ م . (القاهرة ٢٠١٩)
- ٢ - بدأت الحرب في أغسطس ١٩١٤ م .
- ٣ - عمل سعد زغلول محرراً في جريدة ، وتولى نظارة ١٩٠٦ م . (الجزيرة ٢٠١٩)
- ٤ - انتخب سعد زغلول عضواً في عام ١٩١٣ م .
- ٥ - أعلنت حمايتها على مصر في ديسمبر ١٩١٤ م .
- ٦ - تكوّن الوفد المصري الذي سافر إلى مؤتمر الصلح من و و
- ٧ - عقد مؤتمر الصلح بين بعض الدول الأوروبية في مدينة
- ٨ - قامت السلطات البريطانية بنفي سعد زغلول مرتين كانت الأولى إلى والثانية إلى
- ٩ - تم الإفراج عن سعد زغلول وزملائه في شهر ١٩١٩ م . (مطروح ٢٠١٨)
- ١٠ - بدأت ثورة ١٩١٩ م بمظاهرات في مارس ١٩١٩ م ، واشتركت فيها لأول مرة .
- ١١ - اعترفت بريطانيا ب حمايتها عن مصر وأن مصر دولة ذات سيادة (شكلياً) في تصريح ٢٨ فبراير ١٩٢٢ م .
- ١٢ - رأى طلعت حرب أن استقلال مصر يجب أن يستند إلى استقلال
- ١٣ - فاز حزب بزعامة سعد زغلول في الانتخابات العامة بالأغلبية المطلقة .
- ١٤ - يعد من أبرز رجال الاقتصاد المصري . (أسوان ٢٠١٩)
- ١٥ - تم تشكيل أول حكومة دستورية في مصر عام ١٩٢٤ م بزعامة
- ١٦ - أيد الرئيس الأمريكي مبدأ حق الشعوب في تقرير مصيرها . (الجزيرة ٢٠١٩)



حل التدريب

اكتب كلمة (صواب) أمام العبارة الصحيحة، وكلمة (خطأ) أمام العبارة غير الصحيحة مع التصويب :

س٢

- ١ - نُفي سعد زغلول في المرة الأولى إلى جزيرة سيشل بالمحيط الهندي . (القاهرة ٢٠١٩)
- ٢ - تحسنت أحوال مصر الاقتصادية والاجتماعية أثناء الحرب العالمية الأولى ١٩١٤ م . ()
- ٣ - أسس طلعت حرب بنك مصر عام ١٩٢٠ م براءوس أموال أجنبية . (الأقصر ٢٠١٩)
- ٤ - كانت الشرارة التي فجرت ثورة ١٩١٩ م نفي سعد زغلول وزملائه في مارس ١٩١٩ م إلى جزيرة صقلية . (البحيرة ٢٠١٨)
- ٥ - خيب مؤتمر الصلح في باريس آمال المصريين في الاستقلال . (المنوفية ٢٠١٨)
- ٦ - ازدياد الوعي القومي والدعوة للتحرر من الاستعمار من عوامل قيام ثورة ١٩١٩ م . ()
- ٧ - رفضت سلطات الاحتلال البريطاني سفر أعضاء الوفد المصري إلى مؤتمر الصلح . ()
- ٨ - أصدرت فرنسا تصريح ٢٨ فبراير ١٩٢٢ م واعترفت فيه باستقلال مصر . (أسسوط ٢٠١٨)



هذا العمل خاص بموقع ذاكرولى التعليمي ولا يسمح بتداوله على مواقع أخرى



- ٩ - أعلنت الحماية البريطانية على مصر عام ١٩١٤ م . (بورسعيد ٢٠١٩) ()
- ١٠ - عمل سعد زغلول كمحرر في جريدة اللواء . ()
- ١١ - قامت ثورة ١٩١٩ م في القاهرة فقط . ()
- ١٢ - شاركت المرأة في المظاهرات لأول مرة أثناء ثورة ١٩١٩ م . ()
- ١٣ - من شروط تصريح ٢٨ فبراير احتفاظ بريطانيا بتأمين مواصلاتها في مصر . ()

س ٣ اختر الإجابة الصحيحة مما بين القوسين :

- ١ - تم نفي سعد زغلول للمرة الأولى إلى جزيرة (سيشل - صقلية - مالطة - قبرص)
- ٢ - أصدرت تصريح ٢٨ فبراير ١٩٢٢ م . (فرنسا - بريطانيا - ألمانيا - إيطاليا)
- ٣ - سُكِّلت أول حكومة دستورية عام ١٩٢٤ م برئاسة (سعد زغلول - طلعت حرب - على الروبي - محمد عبده)
- ٤ - عمل سعد زغلول محرراً في جريدة (كبر الشبع ٢٠١٨) (الوفد - الوقائع المصرية - اللواء - اليوم السابع)
- ٥ - ارتبط اسم بالاستقلال الاقتصادي لمصر . (أحمد عرابي - طلعت حرب - ديليسبس - مصطفى كامل)
- ٦ - تولى سعد زغلول وزارة ١٩١٠ م . (المعارف - الحقانية - الزراعة - الحربية)
- ٧ - تم نفي سعد زغلول في المرة الثانية إلى جزيرة بالمحيط الهندي . (اسوان ٢٠١٩) (مالطة - قبرص - سيشل - شدوان)
- ٨ - عُقد مؤتمر الصلح في مدينة (لندن - أمريكا - باريس - كندا)
- ٩ - اشتركت في ثورة ١٩١٩ م لأول مرة . (المرأة - العمال - الفلاحون - المعلمون)

س ٤ اكتب المصطلح التاريخي الذي تشير إليه العبارات التالية :

- ١ - المبادئ والقواعد التي تحدد نظام الحكم في الدولة . (الإسكندرية ٢٠١٨) ()
- ٢ - عدم تبعية اقتصاد مصر لأي دولة أجنبية واعتمادها على رءوس أموال وطنية . ()
- ٣ - مؤتمر عقدته بعض الدول الأوروبية بعد الحرب العالمية الأولى في مدينة باريس للنظر في الأوضاع السياسية . ()
- ٤ - بنك أسسه طلعت حرب عام ١٩٢٠ م . ()
- ٥ - تصريح أصدرته بريطانيا في ٢٨ فبراير ١٩٢٢ م منح مصر استقلالها بشكل صوري . ()
- ٦ - حرب قامت بين الدول الكبرى واستمرت من ١٩١٤ إلى ١٩١٨ م . (بنى سويف ٢٠١٩) ()
- ٧ - ثورة شعبية شارك فيها جميع طوائف الشعب المصري ضد الاحتلال البريطاني . ()

هذا العمل خاص بموقع ذاكرولى التعليمي ولا يسمح بتداوله على مواقع أخرى



س ٥ | بم تفسر ؟:

- ١ - سوء أحوال مصر الاقتصادية والاجتماعية أثناء الحرب العالمية الأولى . (المنوفية ٢٠١٨)
- ٢ - قيام ثورة ١٩١٩ م .
- ٣ - سفر الوفد المصري إلى مؤتمر الصلح في باريس .
- ٤ - تعتبر ثورة ١٩١٩ م ثورة شعبية عامة . (كفر الشيخ ٢٠١٨)
- ٥ - خيب مؤتمر الصلح بباريس آمال المصريين في الاستقلال . (قنا ٢٠١٩)
- ٦ - إنهاء تبعية مصر للدولة العثمانية عام ١٩١٤ م .
- ٧ - حققت ثورة ١٩١٩ م الوحدة الوطنية بين المصريين .
- ٨ - قيام الثوار بقطع السكك الحديدية وخطوط التلغراف خلال ثورة ١٩١٩ م . (المنوفية ٢٠١٩)
- ٩ - مقاطعة المصريين للبضائع والبنوك والسفن الإنجليزية أثناء ثورة ١٩١٩ م .
- ١٠ - إنشاء بنك مصر عام ١٩٢٠ م .
- ١١ - سجلت ثورة ١٩١٩ م تطوراً اجتماعياً ملحوظاً في تاريخ مصر الحديث . (الغربية ٢٠١٩)
- ١٢ - أعطى تصريح ٢٨ فبراير لمصر استقلالاً منقوصاً . (دمياط ٢٠١٩)

س ٦ | ما النتائج المترتبة على ما يلي ؟:

- ١ - تصريح ٢٨ فبراير ١٩٢٢ م . (الإسكندرية ٢٠١٩)
- ٢ - نفي سعد زغلول وزملائه إلى جزيرة مالطة .
- ٣ - ثورة ١٩١٩ م .
- ٤ - ازدياد الوعي القومي عند المصريين والدعوة للتحرر من الاستعمار .
- ٥ - قبول الحكومة المصرية لتصريح ٢٨ فبراير عام ١٩٢٢ م .
- ٦ - حضور الوفد المصري مؤتمر الصلح بباريس عام ١٩١٩ م . (الغربية ٢٠١٩)
- ٧ - إنشاء بنك مصر .
- ٨ - مقاطعة المصريين للبضائع والبنوك والسفن البريطانية أثناء ثورة ١٩١٩ م .
- ٩ - نفي سعد زغلول وزملائه لجزيرة سيشل في المحيط الهندي .
- ١٠ - التحفظات الأربعة لبريطانيا في تصريح ٢٨ فبراير ١٩٢٢ م .

س ٧ | إلى من تنسب الأعمال التاريخية الآتية ؟:

- ١ - رئيس أمريكي أعلن مبدأ حق الشعوب في تقرير مصيرها . (القليوبية ٢٠١٩)
- ٢ - شكّل أول حكومة دستورية في مصر عام ١٩٢٤ م . (الغربية ٢٠١٩)
- ٣ - عمل محرراً في جريدة الوقائع المصرية وانتخب عضواً بالجمعية التشريعية ١٩١٢ م . (.....)
- ٤ - قام بتأسيس بنك مصر عام ١٩٢٠ م . (كفر الشيخ ٢٠١٩)
- ٥ - نادى بضرورة استقلال الاقتصاد المصري وتحريره من رءوس الأموال الأجنبية . (.....)
- ٦ - تولى نظارة المعارف عام ١٩٠٦ م ، وعُين وزيراً للحقانية عام ١٩١٠ م . (.....)

هذا العمل خاص بموقع ذاكرولى التعليمي ولا يسمح بتداوله على مواقع أخرى



٨ س | ماذا كان سيحدث إذا؟

- ١ - لم يقاطع المصريون البضائع والبنوك والسفن البريطانية أثناء ثورة ١٩١٩ م . (القاهرة ٢٠١٩)
- ٢ - أيد مؤتمر الصلح بباريس استقلال مصر .
- ٣ - لم يؤسس طلعت حرب بنك مصر .
- ٤ - لم تصدر بريطانيا تصريح ٢٨ فبراير ١٩٢٢ م .

ب | دلل تاريخياً على صحة العبارات التالية :

- ١ - طلعت حرب محرر الاقتصاد المصري .
- ٢ - منح تصريح ٢٨ فبراير استقلالاً منقوصاً لمصر .
- ٣ - تعد ثورة ١٩١٩ م ثورة شعبية عامة . (الدقهلية ٢٠١٩)
- ٤ - سجلت ثورة ١٩١٩ م تطوراً اجتماعياً ملحوظاً في تاريخ البلاد .

ح | ما العلاقة بين كل من : طلعت حرب والاقتصاد المصري؟

د | رتب الأحداث التالية من الأقدم إلى الأحدث :

- ١ - (مؤتمر الصلح في باريس - نفي سعد زغلول لجزيرة سيشل - بداية الحرب العالمية الأولى - إعلان دستور ١٩٢٣ م)
- ٢ - (تشكيل أول حكومة دستورية - تأسيس بنك مصر - تصريح ٢٨ فبراير - نفي سعد زغلول لجزيرة مالطة)

هـ | ما المقصود بالمصطلحات والمفاهيم التاريخية الآتية؟

- ١ - الدستور .
- ٢ - استقلال مصر الاقتصادي .
- ٣ - مؤتمر الصلح .

٩ س | صوب ما تحته خط :

- ١ - شكل الزعيم مصطفى كامل أول حكومة دستورية في مصر . (الإسكندرية ٢٠١٩)
- ٢ - أعلن الرئيس الأمريكي كيندي مبدأ حق الشعوب في تقرير مصيرها .
- ٣ - تأسس بنك مصر في عام ١٩٢٠ م على يد سعد زغلول .
- ٤ - أصدرت إيطاليا تصريح ٢٨ فبراير عام ١٩٢٢ م .
- ٥ - تم نفي سعد زغلول ١٩١٩ م في المرة الأولى إلى جزيرة سيلان .

١٠ س | انظر للصورة وأجب :



- ١ - ما اسم هذا الحدث؟
-

- ٢ - من قائد هذا الحدث؟
-

- ٣ - استخرج من الصورة أهم ملامح الوحدة الوطنية .
-

هذا العمل خاص بموقع ذاكرولى التعليمى ولا يسمح بتداوله على مواقع أخرى



أولاً : تدريبات الكتاب المدرسي على الدرس الأول

س ١ : أكمل العبارات التالية بكلمات مناسبة :

- ١ - قامت إسرائيل ومعها إنجلترا وفرنسا بالعدوان الثلاثي على في عام ١٩٥٦ م .
- ٢ - قامت وحدة بين و عام ١٩٥٨ م .
- ٣ - تم افتتاح في عام ١٩٧١ م .

س ٢ : اكتب كلمة (صواب) أمام العبارة الصحيحة ، وكلمة (خطأ) أمام العبارة غير الصحيحة فيما يلي :

- ١ - ساندت ثورة ٢٣ يوليو ١٩٥٢ م حركات التحرر الوطني في آسيا وإفريقيا . ()
- ٢ - تم جلاء القوات الفرنسية عن مصر بعد اتفاقية الجلاء ١٩٥٤ م . ()
- ٣ - أعلن تأميم شركة قناة السويس في يوليو ١٩٥٦ م . ()
- ٤ - أصدرت حكومة ثورة يوليو قانون الإصلاح الزراعي . ()
- ٥ - احتلت إسرائيل الضفة الغربية لقناة السويس بعد عدوان ١٩٦٧ م . ()

س ٣ : أعد ترتيب الأحداث التاريخية من القديم إلى الحديث :

- () تأميم شركة قناة السويس .
- () العدوان الإسرائيلي على مصر .
- () افتتاح السد العالي .
- () صدور قانون الإصلاح الزراعي .

س ٤ : بم تفسر ؟ :

- ١ - تأسيس تنظيم الضباط الأحرار .
- ٢ - قيام العدوان الثلاثي على مصر .
- ٣ - قيام ثورة يوليو ١٩٥٢ م .
- ٤ - فشل العدوان الثلاثي على مصر ١٩٥٦ م .



اقتن

كتاب الرياضيات

تكتيب علقا ومهارة ومعينة

مطاب
عنها

ثانياً : تدريبات سلاح التلميذ على الدرس الأول

س ١ : أكمل العبارات التالية بما يناسبها من كلمات :

- ١ - قامت وحدة بين و عام ١٩٥٨م . (أسبوط ٢٠١٨)
- ٢ - قام بتأسيس تنظيم الضباط الأحرار . (الجيزة ٢٠١٩)
- ٣ - استولت إسرائيل على هضبة السورية و و من مصر بعد هزيمة يونيو ١٩٦٧م . (القاهرة ٢٠١٩)
- ٤ - عارض العدوان الثلاثي على مصر وهدد بالتدخل العسكري .
- ٥ - من مبادئ ثورة يوليو ١٩٥٢م القضاء على و و
- ٦ - ساندت مصر حركات التحرر الوطني في كل من و
- ٧ - من الإنجازات الاجتماعية لثورة يوليو ١٩٥٢م إصدار قانون لتحديد الملكية الزراعية .
- ٨ - يعد شركة قناة السويس من الإنجازات السياسية لثورة يوليو ١٩٥٢م بينما يعد تمصير و من الإنجازات الاقتصادية .
- ٩ - من إنجازات ثورة يوليو ١٩٥٢م بناء على نهر النيل وافتتاحه عام ١٩٧١م . (أسبوط ٢٠١٩)
- ١٠ - سوء توزيع الثروات وغياب العدالة الاجتماعية من الأسباب لثورة يوليو ١٩٥٢م .
- ١١ - تحولت مصر من النظام الملكي إلى النظام بعد ثورة يوليو ١٩٥٢م . (الأقصر ٢٠١٩)
- ١٢ - قامت ثورة يوليو ١٩٥٢م على العديد من المبادئ منها إقامة و و
- ١٣ - يعد الاحتلال البريطاني لمصر من الأسباب لثورة ٢٣ يوليو ، بينما انتشر الفقر من الأسباب
- ١٤ - شارك في العدوان الثلاثي على مصر ثلاث دول هي و و
- ١٥ - تم عقد بين مصر وبريطانيا في أكتوبر ١٩٥٤م .
- ١٦ - نتيجة لتأميم شركة قناة السويس تعرضت مصر إلى في ١٩٥٦م .
- ١٧ - الاهتمام بالصناعات الثقيلة مثل إنشاء مصنع بحلوان من أهم الإنجازات الاقتصادية لثورة يوليو ١٩٥٢م .

س ٢ : اكتب كلمة (صواب) أمام العبارة الصحيحة، وكلمة (خطأ) أمام العبارة غير الصحيحة مع التصويب :

- ١ - قاد تنظيم الضباط الأحرار ثورة ٢٣ يوليو عام ١٩٥٢م . (البحيرة ٢٠١٩)
- ٢ - أصدرت حكومة ثورة ٢٣ يوليو قانون الإصلاح الزراعي في سبتمبر ١٩٥٢م . (المنوفية ٢٠١٨)
- ٣ - الاهتمام بالصناعات الثقيلة من أهم الإنجازات الاقتصادية لثورة يوليو ١٩٥٢م . ()
- ٤ - نجح العدوان الثلاثي ١٩٥٦م في احتلال مصر . ()
- ٥ - انتشار الجهل والمرض من الأسباب الاجتماعية لثورة ٢٣ يوليو ١٩٥٢م . ()
- ٦ - من إنجازات ثورة يوليو ١٩٥٢م بناء السد العالي وافتتاحه عام ١٩٧١م . ()
- ٧ - العدالة الاجتماعية هي توزيع الثروات القومية بين المواطنين توزيعاً عادلاً . ()
- ٨ - تتمثل الأسباب السياسية لثورة يوليو ١٩٥٢م في ارتفاع الأسعار وانخفاض الدخل وانتشار الفقر . ()



حل التدريب



- ٩ - من مبادئ ثورة يوليو ١٩٥٢م القضاء على الإقطاع والاحتكار وسيطرة رأس المال . ()
- ١٠ - لم تستسلم مصر لهزيمة يونيو ١٩٦٧م بل زاد إصرار أبنائها على تحرير أرضهم . ()
- ١١ - قامت كلٌّ من إنجلترا وفرنسا والولايات المتحدة الأمريكية بالعدوان الثلاثي على مصر . ()
- ١٢ - نجحت ثورة يوليو في إلغاء الملكية وإعلان قيام الجمهورية في مصر . (بنى سويف ٢٠١٩) ()
- ١٣ - احتلت إسرائيل القدس الشرقية والضفة الغربية لنهر الأردن بعد انتصارها في يونيو ١٩٦٧م . ()
- ١٤ - ساندت ثورة ٢٣ يوليو حركات التحرر الوطني في آسيا وإفريقيا . ()

اختر الإجابة الصحيحة مما بين القوسين :

- ١ - أسس الزعيم تنظيم الضباط الأحرار .
(سعد زغلول - أحمد عرابي - جمال عبد الناصر - مصطفى كامل)
- ٢ - تم إقامة وحدة بين مصر و..... عام ١٩٥٨م .
(سوريا - السودان - روسيا - بريطانيا)
- ٣ - من النتائج السياسية لثورة يوليو في يوليو عام ١٩٥٦م .
(الفتيوية ٢٠١٩)
(تأميم شركة قناة السويس - قانون الإصلاح الزراعي - الوحدة بين مصر وسوريا - بناء السد العالي)
- ٤ - شارك في العدوان الثلاثي على مصر عام ١٩٥٦م
(إسرائيل - فرنسا - إنجلترا - كل ما سبق)
- ٥ - من أهم الإنجازات الاقتصادية لثورة ٢٣ يوليو الاهتمام ب.....
(الصناعة الثقيلة - التعليم - الوحدة مع سوريا - الصناعة اليدوية)
- ٦ - ساندت ثورة ٢٣ يوليو معظم حركات التحرر مثل ثورة
(دمياط ٢٠١٩)
(السودان - تونس - الجزائر - المغرب)
- ٧ - عارض العدوان الثلاثي على مصر في أكتوبر ١٩٥٦م .
(فرنسا - إنجلترا - إسرائيل - الاتحاد السوفيتي)
- ٨ - احتلت إسرائيل شبه جزيرة سيناء بعد
(العدوان الثلاثي - عدوان ١٩٦٧م - الثورة العرابية - ثورة ١٩١٩م)

اكتب المصطلح التاريخي الذي تشير إليه العبارات التالية :

- ١ - مجموعة من الضباط المعروفين بوطنيتهم، وتجمعهم أهداف مشتركة وأسسها
جمال عبد الناصر . ()
- ٢ - توزيع الثروات القومية على المواطنين توزيعاً عادلاً .
(الغربية ٢٠١٨) ()
- ٣ - قانون صدر في سبتمبر ١٩٥٢م ونص على تحديد ملكية الأراضي الزراعية .
()
- ٤ - عدوان شنته كلٌّ من إنجلترا وفرنسا وإسرائيل على مصر عام ١٩٥٦م .
()
- ٥ - عدوان تعرضت له مصر في ٥ يونيو ١٩٦٧م .
()
- ٦ - اتفاقية وقعتها مصر مع بريطانيا في أكتوبر ١٩٥٤م .
()

هذا العمل خاص بموقع ذاكرولى التعليمي ولا يسمح بتداوله على مواقع أخرى



س ٥ : بم تفسر ؟

- ١ - قيام ثورة ٢٣ يوليو ١٩٥٢م .
- ٢ - تأسيس تنظيم الضباط الأحرار .
- ٣ - العدوان الثلاثي على مصر عام ١٩٥٦م .
- ٤ - فشل العدوان الثلاثي على مصر ١٩٥٦م .
- ٥ - عقد اتفاقية الجلاء بين مصر وبريطانيا عام ١٩٥٤م .
- ٦ - العدوان الإسرائيلي على مصر عام ١٩٦٧م .
- ٧ - تسمية العدوان الثلاثي ١٩٥٦م بهذا الاسم .

(أسبوع ٢٠١٩)

(بورسعيد ٢٠١٨)

س ٦ : ما النتائج المترتبة على ما يلي ؟

- ١ - تأميم شركة قناة السويس في يوليو ١٩٥٦م .
- ٢ - العدوان الإسرائيلي على مصر عام ١٩٦٧م .
- ٣ - سوء الأوضاع السياسية والاقتصادية والاجتماعية في مصر قبل ثورة يوليو ١٩٥٢م .
- ٤ - ثورة يوليو ١٩٥٢م من الناحية السياسية والاجتماعية .
- ٥ - تهديد الاتحاد السوفيتي للعدوان الثلاثي على مصر .
- ٦ - وقوف الجيش والشعب إلى جانب القيادة السياسية في عدوان ١٩٥٦م .
- ٧ - نجاح مصر في مساندة حركات التحرر الوطني في آسيا وإفريقيا .
- ٨ - إصدار قانون الإصلاح الزراعي ١٩٥٢م .
- ٩ - توقيع اتفاقية الجلاء بين مصر وبريطانيا في أكتوبر ١٩٥٤م .

(الإسكندرية ٢٠١٩)

(المنوفية ٢٠١٩)

(المنيا ٢٠١٩)

س ٧ : ما العلاقة بين كل مما يأتي ؟

- ١ - الاتحاد السوفيتي وفشل العدوان الثلاثي على مصر .
- ٢ - الولايات المتحدة الأمريكية والعدوان الإسرائيلي على مصر .
- ٣ - العدالة الاجتماعية وثورة ٢٣ يوليو ١٩٥٢م .
- ٤ - تأميم شركة قناة السويس والعدوان الثلاثي على مصر .

س ٨ : ما المقصود بالمصطلحات التاريخية التالية ؟

(البحيرة ٢٠١٨)

١ - العدالة الاجتماعية .

٢ - تنظيم الضباط الأحرار .

س ٩ : قارن بين كل مما يأتي :

- ١ - العدوان الثلاثي والعدوان الإسرائيلي على مصر من حيث : الأسباب والنتائج والدول المشاركة .
- ٢ - ثورة يوليو ١٩٥٢م وثورة ١٩١٩م من حيث : الأسباب والنتائج وقادة الثورة .

س ٩ : ا دال تاريخيًا على صحة العبارات التالية :

١ - جلب تأميم قناة السويس الحروب على مصر .

٢ - كان لقيام ثورة ٢٣ يوليو ١٩٥٢م أسباب اجتماعية .

(بورسعيد ٢٠١٩)





١٠ لمن تنسب الأعمال التاريخية التالية ؟ :

- ١ - قاد ثورة ٢٣ يوليو ١٩٥٢ م وأسس تنظيم الضباط الأحرار . (.....)
- ٢ - عارض العدوان الثلاثي على مصر وهدد الدول المعتدية بالتدخل العسكري . (.....)
- ٣ - ساندت إسرائيل في عدوانها على مصر عام ١٩٦٧ م . (.....)

ح أمامك مجموعة من الأسباب التي أدت لقيام ثورة ٢٣ يوليو ١٩٥٢ م، صفها داخل الجدول :

(القاهرة ٢٠١٩)

(انتشار الجهل والمرض - انخفاض الدخل - الاحتلال البريطاني)

أسباب اجتماعية	أسباب اقتصادية	أسباب سياسية
.....
.....

١١ صوب ما تحته خط :

- ١ - تم بناء سد اللاهون على نهر النيل وافتتاحه عام ١٩٧١ م . (الغربية ٢٠١٩)
- ٢ - ساندت حكومة ثورة يوليو ١٩٥٢ م حركات التحرر الوطني في آسيا وأوروبا مثل مساندة ثورة الجزائر .
- ٣ - من نتائج ثورة يوليو ١٩٥٢ م إقامة وحدة مع فلسطين عام ١٩٥٨ م . (دمياط ٢٠١٩)
- ٤ - من الأسباب السياسية لثورة يوليو ١٩٥٢ م انتشار الجهل وغلاء الأسعار، ومن الأسباب الاقتصادية غياب العدالة الاجتماعية .
- ٥ - عُقدت اتفاقية الجلاء بين مصر وفرنسا في أكتوبر ١٩٥٤ م .
- ٦ - العدوان الإسرائيلي هو عدوان شنته إسرائيل على مصر بدعم من فرنسا .

١٢ ماذا كان سيحدث إذا ؟ :

- ١ - نجح العدوان الثلاثي على مصر .
- ٢ - لم يصدر قانون الإصلاح الزراعي ١٩٥٢ م . (الغربية ٢٠١٩)
- ٣ - لم تقم ثورة ٢٣ يوليو ١٩٥٢ م .
- ٤ - لم تأمم شركة قناة السويس .
- ٥ - لم يتم تأسيس تنظيم الضباط الأحرار .

١٣ أمامك صورة لأحد الزعماء الوطنيين ، أجب عما يأتي :



- أ ما اسم صاحب الصورة ؟
- ب وضع دوره التاريخي في ثلاثة أسطر ؟
- ح أكمل الجدول التالي : حدد مبادئ ثورة يوليو ١٩٥٢ م ؟

القضاء على	إقامة
.....
.....
.....

هذا العمل خاص بموقع ذاكرولي التعليمي ولا يسمح بتداوله على مواقع أخرى

اختبار تراكمي
على ما سبق

(يجيب عنه التلميذ)

س ١ | أكمل العبارات التالية بكلمات مناسبة:

- ١ - سوء توزيع الثروات وغياب العدالة الاجتماعية من الأسباب لثورة يوليو ١٩٥٢ م .
 - ٢ - قامت وحدة في عام ١٩٥٨ م بين و.....
 - ٣ - ساندت ثورة ٢٣ يوليو معظم حركات التحرر الوطني في آسيا وإفريقيا وأبرزها ثورة
 - ٤ - تم افتتاح في عام ١٩٧١ م على نهر النيل .
- ب ما المقصود بالمفهوم التاريخي : استقلال مصر الاقتصادي ؟

س ٢ | اكتب كلمة (صواب) أمام العبارة الصحيحة، وكلمة (خطأ) أمام العبارة غير الصحيحة مع التصويب :

- ١ - عارضت بريطانيا العدوان الثلاثي على مصر وهددت بالتدخل العسكري . ()
- ٢ - أنشأ محمد فريد المدارس الليلية لتعليم العمال والفقراء مجاناً . ()
- ٣ - قامت حكومة ثورة يوليو ١٩٥٢ م بتأميم شركة قناة السويس وتمصير الشركات والبنوك . ()
- ٤ - ساهمت خطب ومقالات مصطفى كامل في توعية المصريين بجرائم الاحتلال ورفع الروح الوطنية . ()

ب أمامك مجموعة من الأسباب التي أدت لقيام ثورة يوليو ١٩٥٢ م ، صنفها إلى أسباب سياسية واقتصادية واجتماعية :

(انتشار الجهل والمرض - انخفاض الدخل - الاحتلال البريطاني لمصر - فساد الحكام - انتشار الفقر)

س ٣ | ب م تفسر ؟ :

- ١ - العدوان الثلاثي على مصر ١٩٥٦ م .
- ٢ - قيام الثورة العراقية .
- ٣ - العدوان الإسرائيلي على مصر ١٩٦٧ م .

ب اكتسب سعد زغلول أهمية كبيرة في تاريخ مصر باعتباره زعيماً لثورة ١٩١٩ م .
في ضوء هذه العبارة أجب عما يأتي :

١ - لماذا تعتبر ثورة ١٩١٩ م ثورة شعبية عامة ؟

٢ - ما هي الشرارة التي فجرت ثورة ١٩١٩ م للمرة الأولى ؟

(ديسمبر ٢٠١٩)

س ٤ | ا إلى من تنسب الأعمال التاريخية التالية ؟ :

- ١ - عمل محرراً في جريدة الوقائع المصرية . (.....)
- ٢ - مؤسس تنظيم الضباط الأحرار . (.....)
- ٣ - شكل أول حكومة دستورية في مصر عام ١٩٢٤ م . (.....)

ب ما النتائج المترتبة على :

- مقاطعة المصريين للبضائع والبنوك والسفن البريطانية خلال ثورة ١٩١٩ م ؟

تدريبات الكتاب المدرسي

مجاب عنها
٢٢١ ص

اختر الإجابة الصحيحة مما بين الأقواس:

- (أ) أهم حيوانات الرعى في البيئة الصحراوية
 (ب) يوجد الذهب في مناجم بالصحراء الشرقية.
 (ج) من أهم المحاصيل الغذائية في البيئة الصحراوية
 (د) تقوم صناعة حفظ التمور على أشجار
 (هـ) من أشهر القبائل التي تعمل بحرفة الرعى في الصحراء الغربية قبيلة أولاد
 (عامر - علي - عابد - الشهرير)

بم تفسر ...؟

- تنوع الأنشطة الاقتصادية في البيئة الصحراوية.

صواب ما تحته خط في العبارات الآتية:

- (أ) حرفة الصناعة هي الحرفة الرئيسة لسكان البيئة الصحراوية.
 (ب) يتركز السكان في منطقة أبو طرطور حيث يتم تعدين الحديد.
 (ج) يستخرج الذهب من مناجم أم بجمة بالصحراء الشرقية.
 (د) من المناظر الطبيعية الخلابة التي تجذب السياح الصحراء البيضاء بواحة الداخلة.

تدريبات الأضواء الشاملة على الدرس

مجاب عنها
٢٢٢ ص

أمامك خريطة صماء لمصر، اكتب ما تدل عليه الأرقام بها:

- ١- منجم لاستخراج الذهب.
 ٢- منطقة لاستخراج الفوسفات
 ٣- منطقة لاستخراج الحديد
 ٤- منطقة لاستخراج المنجنيز



أكمل العبارات التالية بالكلمات المناسبة:

(٢٠١٨ قتا)

- (أ) من أشهر القبائل التي تعمل بالرعى بالصحراء الغربية قبيلة
 (ب) تعتمد الزراعة في الواحات على المياه
 (ج) من أهم محاصيل البيئة الصحراوية من الحبوب
 (د) تعتبر الصناعات الحرفية من الأنشطة الاقتصادية في البيئة
 (هـ) تعتمد صناعة السجاد اليدوي في البيئة الصحراوية على وفرة ووبر الإبل.
 (و) يوجد الذهب في مناجم بالصحراء الشرقية المصرية.
 (ز) توجد محمية الصحراء البيضاء في
 (ح) من المزارات الدينية في شبه جزيرة سيناء دير وجبل

(الدفقالية ٢٠١٨)

(كفر الشيخ ٢٠١٨)

اكتب كلمة (صواب) أمام العبارات الصحيحة، وكلمة (خطأ) أمام العبارات غير الصحيحة فيما يلي:

(القاهرة ٢٠١٩)

- (أ) تعيش قبائل أولاد علي في الصحراء الشرقية.
 (ب) القمح والشعير من الحبوب الغذائية بالبيئة الصحراوية.
 (ج) الزراعة أكثر الحرف انتشارًا بين سكان البيئة الصحراوية.
 (د) من أهم النباتات الشجرية التي تزرع في البيئة الصحراوية المشمش والزيتون.
 (هـ) صناعة حفظ وتعليب التمور من الصناعات الهامة في البيئة الصحراوية.
 (و) يوجد الحديد في الواحات البحرية بالصحراء الغربية.
 (ز) يتركز السكان في منطقة أبو طرطور حيث يتم تعدين الحديد.
 (ح) يوجد خام المنجنيز بالواحات البحرية.
 (ط) تتعدد المزارات السياحية في البيئة الصحراوية.
 (ي) من المناطق الخلابة التي تجذب إليها السياح منطقة الصحراء البيضاء بالقرافة.

(المنوفية ٢٠١٩)

(دمياط ٢٠١٨)

(الجيزة ٢٠١٨)

(أسيوط ٢٠١٩)

اختر الإجابة الصحيحة مما بين الأقواس:

- (أ) يعمل معظم سكان البيئة الصحراوية بحرفة (التجارة - الصناعة - الصيد - الرعى) (أسيوط ٢٠١٨)
 (ب) من أشهر القبائل التي تعمل بحرفة الرعى في الصحراء الغربية قبيلة أولاد (عامر - علي - عابد - الشهرير) (المنيا، البحيرة ٢٠١٨)
 (ج) يستخرج الفوسفات في البيئة الصحراوية في منطقة (أبو طرطور - أم بجمة - الواحات البحرية - أسوان) (سوهاج، المنوفية ٢٠١٨)
 (د) يرتبط نشاط التعدين بوفرة الموارد (الزراعية - المعدنية - الحيوانية - البترولية)
 (هـ) من المزارات الدينية في شبه جزيرة سيناء دير (وادي النطرون - المحرق - أبو مقار - سانت كاترين)
 (و) من أهم المحاصيل الزراعية في البيئة الصحراوية (القطن - القمح - الأرز - البطاطس) (سوهاج ٢٠١٨)

بم تفسر...؟

- (أ) تنوع الأنشطة الاقتصادية في البيئة الصحراوية.
- (ب) اهتمام بدو الصحراء بتربية الماعز والأغنام والإبل.
- (ج) قيام الزراعة في الواحات.
- (د) انتشار صناعة السجاد اليدوي في البيئة الصحراوية.
- (هـ) قيام صناعة حفظ وتعبئة التمور في البيئة الصحراوية.
- (و) اعتبار السياحة من الأنشطة الاقتصادية المهمة في البيئة الصحراوية.

ما النتائج المترتبة على...؟

- (أ) تنوع الموارد الطبيعية في البيئة الصحراوية. (الشرقية ٢٠١٩) (ب) خصوبة التربة في الواحات.
- (ج) كثرة أشجار النخيل في البيئة الصحراوية. (الغربية ٢٠١٨) (د) توافر الصوف في البيئة الصحراوية.
- (هـ) توفر مناطق التعدين واستخراج البترول في الصحارى المصرية.
- (و) وجود العشب والماء في البيئة الصحراوية.

اكتب المصطلح الجغرافى الذى تشير إليه العبارة الآتية:

- نشاط يقوم به بعض سكان البيئة الصحراوية يتنقلون فيه من مكان لآخر.

صوب ما نحتته خط:

- (أ) يستخرج الذهب المصرى من مناجم أم بجممة بالصحراء الشرقية.
- (ب) يهتم سكان البيئة الصحراوية بالصناعات الثقيلة.

ما أهم أماكن تواجد خامس الحديد والفوسفات فى البيئة الصحراوية؟

أسئلة مميزة

يجيب عنها التلميذ

- أجب عن الأسئلة التالية لتجمع نجوم التفوق:

١- وضح العلاقة بين مظاهر السطح والسياحة فى البيئة الصحراوية.

٢- ماذا يحدث إذا لم...؟

(أ) تنوع الموارد الطبيعية فى البيئة الصحراوية. (ب) تنتشر المعادن فى البيئة الصحراوية.



اختبار تراكمى على الدروس السابقة

(١) أمامك خريطة صماء لجمهورية مصر العربية، اكتب ما تدل عليه الأرقام الموقعة عليها:

- ١- جبال
- ٢- منخفض
- ٣- أكبر المحافظات الحدودية سكاناً
- ٤- جبل

(ب) حدد العادات السلبية للمجتمع الصحراوى. وما مقترحاتك لحلها؟

أحمل العبارات الآتية بكلمات مناسبة:

- (أ) من أهم الصناعات الحرفية فى البيئة الصحراوية
- (ب) تهب رياح
- (ج) من الحيوانات النادرة التى توجد بالبيئة الصحراوية
- (د) من أعلى جبال شبه جزيرة سيناء جبل

(١) اكتب كلمة (صواب) أمام العبارات الصحيحة، وكلمة (خطأ) أمام العبارات غير الصحيحة مع تصويب الخطأ:

- ١- ساهمت جهود الدولة فى التغلب على بعض العادات السلبية فى المجتمع الصحراوى. ()
- ٢- من أشهر القبائل التى تعمل بحرفة الرعى فى الصحراء الغربية أولاد على. ()
- ٣- يعاني سكان البيئة الصحراوية من قلة الموارد. ()
- ٤- ترتبط الصناعات الحرفية فى البيئة الصحراوية بوفرة الموارد. ()

(ب) بم تفسر...؟

- ١ - قلة عدد سكان البيئة الصحراوية رغم اتساعها.
- ٢ - قيام صناعة السجاد اليدوى فى البيئة الصحراوية.
- ٣ - انخفاض نسبة الأمية فى المحافظات الصحراوية مؤخراً بشكل تدريجى.

وضح أين توجد الظواهر الجغرافية التالية:

- (أ) وادى العلاقى.
- (ب) هضبة مارماريكا.
- (ج) وادى العريش.
- (د) جبل الشايب.
- (هـ) هضبة الجلالة القبيلية.
- (و) هضبة النيه.
- (ز) هضبة العازة.



(أسبوع ٢٠١٩)
(أسبوع ٢٠١٩)
(الشرقية ٢٠١٩)

(سوهاج ٢٠١٨)
(الجيزة ٢٠١٨)

تدريبات الأضواء الشاملة على الدرس

كتاب عنها ص ٢٤٥



١ أمامك خريطة صماء لمصر، اكتب ما تدل عليه الأرقام بها:

- ١- هضبة
- ٢- مشروع استنزاع الكثبان الرملية في
- ٣- هضبة
- ٤- محمية

٢ أخل العبارات التالية بكلمات مناسبة:

- (أ) من المشكلات التي تواجه البيئة الصحراوية ندرة وحركة وتملح
- (ب) يقوم مشروع شرق العوينات على المياه
- (ج) أقامت الدولة مشروع استنزاع الكثبان الرملية جنوب واحة
- (د) توجد محمية وادى الريان في
- (هـ) من أهم محميات البيئة الصحراوية و
- (و) أقيم سد في وادى العريش لحجز مياه السيول.

(بنى سويف)

٣ اكتب كلمة (صواب) أمام العبارات الصحيحة، وكلمة (خطأ) أمام العبارات غير الصحيحة مع التصويب

- (أ) تؤدى السيول إلى تدمير الحقول الزراعية والمباني.
- (ب) أقيم سد الروافعة على وادى العلاق.
- (ج) أقيم مشروع استنزاع الكثبان الرملية جنوب واحة القنطرة لتثبيت الرمال.
- (د) تعد البيئة الصحراوية مستقبل مصر القادم.
- (هـ) توجد محمية سالوجا وغزال في محافظة شمال سيناء.
- (و) تهتم الدولة بالمحميات الطبيعية مثل رأس محمد في شمال سيناء.
- (ز) تبخر المياه يؤدي إلى تملح التربة.
- (ح) يؤدي تملح التربة إلى انخفاض إنتاجها.

(الشرقية)

٤ اختر الإجابة الصحيحة مما بين الأقواس:

- (أ) من أهم المشكلات التي تواجه البيئة الصحراوية (ندرة الماء - السيول - تملح التربة - كل ما سبق)
- (ب) تراكم الأملاح على سطح التربة وداخلها يسمى (حركة الرمال - التسميد - تملح التربة - كل ما سبق)

(ج) أقامت الدولة مشروع استنزاع الكثبان الرملية جنوب واحة

- (الفرافرة - البحرية - الداخلة - سيوة) (الدقهلية ٢٠١٨)
- (د) توجد محمية وادى العلاق في
- (الصغراء الشرقية - الصحراء الغربية - سيناء - الفيوم)
- (هـ) أنشئ سد الروافعة على وادى
- (العريش - قنا - أسيوط - العلاق) (القاهرة ٢٠١٩)

٥ اكتب المصطلح الجغرافى الذى تشير إليه العبارات الآتية:

- (أ) تدهور التربة الزراعية وانخفاض قدرتها الإنتاجية. (القاهرة، الإسكندرية ٢٠١٩)
- (ب) وجود كميات كبيرة من الرمال المفككة تقوم الرياح بتحريكها من مكان لآخر. (الدقهلية، المنيا ٢٠١٨)
- (ج) تراكم الأملاح على سطح التربة وداخل مسامها. (الإسماعيلية ٢٠١٩)

٦ بم تفسر...؟

- (أ) استنزاع الكثبان الرملية في بعض مناطق البيئة الصحراوية. (المنوفية ٢٠١٩)
- (ب) أهمية إنشاء شبكة من الطرق في البيئة الصحراوية.
- (ج) تملح التربة في البيئة الصحراوية. (الإسكندرية ٢٠١٨)
- (د) إقامة السدود على الأودية بالبيئة الصحراوية. (المنوفية، الدقهلية ٢٠١٨)
- (هـ) اهتمام الدولة بتنمية البيئة الصحراوية.
- (و) تؤثر حركة الرمال سلبياً على البيئة الصحراوية. (الشرقية ٢٠١٩)

٧ ما النتائج المترتبة على...؟

- (أ) حركة الرمال بفعل الرياح على البيئة الصحراوية. (أسيوط ٢٠١٩)
- (ب) قلة مياه الأمطار في البيئة الصحراوية.
- (ج) الإسراف في استخدام المياه الجوفية.
- (د) حدوث السيول في البيئة الصحراوية.
- (هـ) انتشار سدود على الأودية التي تتعرض للسيول. (أسيوط ٢٠١٨)

٨ ماذا يحدث إذا...؟

- (أ) تم استنزاع الكثبان الرملية.
- (ب) نجحت جهود الدولة في تنمية البيئة الصحراوية.
- (ج) لم تهتم الدولة بإنشاء شبكة طرق في البيئة الصحراوية.

(بورسعيد ٢٠١٨)

(الغربية ٢٠١٨)

٩ ما المقصود بالمصطلحات الجغرافية الآتية...؟

- (أ) (التصحّر، سوحاج، القلوبية ٢٠١٨، القلوبية ٢٠١٩)
- (ب) حركة الرمال.
- (ج) تملح التربة. (قنا ٢٠١٨)

١٠ اكتب اثنين من:

- جهود الدولة في تنمية البيئة الصحراوية.

١١ صوب ما تحته خط:

(١) أقامت الدولة مشروع استزراع الكثبان الرملية جنوب واحة الداخلة.

(ب) يؤدي تملح التربة إلى تدمير الحقول الزراعية والمباني والطرق.

(ج) تم إنشاء سد اللاهون على وادي العريش .

يجيب عنها التلميذ



أسئلة مميزة

- أجب عن الأسئلة التالية لتجمع نجوم التفوق:

- تخيل نفسك مستنقلاً:

١- ما مقترحاتك لتنمية البيئة الصحراوية؟

٢- كيف يمكن التغلب على كل من تملح التربة والسيول؟


٣- ما مقترحاتك لزيادة مساحة الأراضي الزراعية في البيئة الصحراوية؟



بنك الأسئلة

اختبر نفسك الآن

مع أكبر بنك للأسئلة التفاعلية من خلال بوابة الأضواء التعليمية

ادخل على: www.aladwaa.com

اختبار تراكمي على الدروس السابقة

يجيب عنها التلميذ



أمامك خريطة صماء لمصر، اكتب ما تدل عليه الأرقام بها:

١- جبل

٢- منخفض

٣- محمية

٤- حقل منجنيز

اكتب المصطلح الجغرافي الذي تشير إليه العبارات الآتية:

(١) جزء من الأرض يقل مستواه عن الأرض المحيطة به .

(ب) رياح محملة بالأتربة تهب في شهري مارس وإبريل .

(ج) تدهور التربة الزراعية وانخفاض قدرتها الإنتاجية .

بم تفسر...؟

(١) إنشاء سد الروافعة على وادي العريش .

(ب) قيام صناعة حفظ وتعليب التمور في البيئة الصحراوية .

(ج) حرفة الرعي هي الحرفة الرئيسية في البيئة الصحراوية .

أكمل العبارات الآتية بما يناسبها من كلمات:

(١) يقطع وادي العلاقي هضبة

(ب) من الحيوانات البرية في البيئة الصحراوية

(ج) أقامت الدولة مشروع استزراع الكثبان الرملية جنوب واحة

(د) أهم الصناعات الحرفية في البيئة الصحراوية

ما النتائج المترتبة على...؟

(١) جهود الدولة لنشر التعليم في البيئة الصحراوية .

(ب) سقوط الأمطار بغزارة على المناطق المرتفعة في البيئة الصحراوية .

(القاهرة ٢٠١٩)

(القاهرة ٢٠١٩)

(الشرقية ٢٠١٩)

(القاهرة، قنا ٢٠١٩)

تدريبات الكتاب المدرسي

مجاب عنها
ص ٢١٨

١ ما المقصود بالمصطلحات الجغرافية الآتية..؟

- الخليج - الشعاب المرجانية - الرأس الأرضي - الشرم

٢ أكمل الفراغات التالية بكلمات مناسبة:

- (أ) تنتشر الشعاب المرجانية على ساحل نظرًا المياه و حركتها.
(ب) تمتد البيئة الساحلية على طول ساحل البحر المتوسط من شرق مدينة في أقصى الشرق حتى غرب مدينة غربًا.
(ج) تمتد البيئة الساحلية على طول ساحل البحر الأحمر من شرق مدينة إلى جنوب مدينة جنوبًا.
(د) تنتشر البيئة الساحلية في مصر على طول ساحل البحر و وخليجي
(هـ) يتميز ساحل البحر بوجود الرؤوس الأرضية مثل رأس

٣ اكتب المصطلح الجغرافي المناسب لكل من العبارات التالية:

- (أ) خليج ذو مدخل ضيق متعمق في اليابس.
(ب) امتداد أرضي من اليابس داخل البحر.
(ج) شريط سهلي قد يتسع أو يضيق تبعًا لاقتراب الجبال أو الهضاب من البحر، ويتأثر مناخه وأعمال سكانه وعاداتهم بالبحر.

٤ بم تفسر..؟

- (أ) تفاوت اتساع السهل الساحلي على طول ساحل البحر الأحمر في مصر.
(ب) ضيق السهل الساحلي على خليج العقبة.
(ج) نمو الشعاب المرجانية على ساحل البحر الأحمر.

٥ ما النتائج المترتبة على..؟

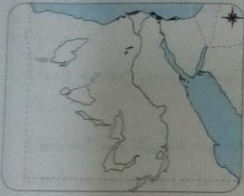
- (أ) صفاء مياه البحر الأحمر وهدهد حركتها.
(ب) سقوط الأمطار على ساحل البحر المتوسط.
(ج) انتشار الرمال الناعمة على ساحل البحر المتوسط.

٦ قارن بين البيئة الساحلية على شاطئ كل من البحر المتوسط والبحر الأحمر من حيث الامتداد والسهول الساحلية والرؤوس الأرضية والخلجان:

وجه المقارنة	البيئة الساحلية على ساحل البحر المتوسط	البيئة الساحلية على ساحل البحر الأحمر
الامتداد
السهول الساحلية
الرؤوس الأرضية
الخلجان

٧ امامك خريطة صماء لمصر، وقع عليها ما يلي:

- (أ) خليج العقبة - خليج السويس.
(ب) رأس الحكمة - رأس بناس.
(ج) مدينة الإسكندرية ومدينة الغردقة.

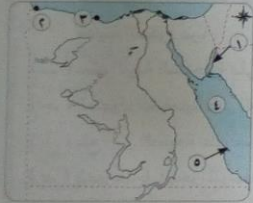


مجاب عنها
ص ٢١٨

تدريبات الأضواء الشاملة على الدرس

١ امامك خريطة صماء لمصر، اكتب ما تدل عليه الأرقام بها:

- ١- خليج
٢- مدينة
٣- رأس
٤- البحر
٥- رأس



٢ أكمل العبارات الآتية بالكلمات المناسبة:

- (أ) الغريش من المدن المطلة على البحر
(ب) السهول الساحلية المطلة على البحر ضيقة لاقتراب الجبال منها.
(ج) يتميز ساحل البحر المتوسط بوجود العديد من الخلجان مثل خليج الحكمة وخليج (الغربية ٢٠١٨)
(د) تنتشر التلال الجيرية على ساحل
(هـ) تتعرض المناطق الساحلية للبحر المتوسط شتاءً لرياح شديدة وأمطار غزيرة تعرف ب (الظليوية ٢٠١٩)
(و) تنتشر الشعاب المرجانية على طول ساحل البحر
(ز) أهم النباتات الطبيعية على ساحل البحر الأحمر تتمثل في

٣ اختر الإجابة الصحيحة مما بين الأقواس:

- (أ) تمتد البيئة الساحلية في مصر على البحر المتوسط في (الشمال - الجنوب - الشرق - الغرب) (سواح ٢٠١٨)
(ب) تمتد البيئة الساحلية في مصر على البحر الأحمر من مدينة طابا شمالاً إلى جنوب مدينة جنوبًا.
(الإسكندرية - الغردقة - حلايب - القصير)

- ٦ (ج) تكثر الخلجان المتسعة على ساحل البحر المتوسط مثل.....
(خليج العرب - خليج الحكمة - خليج أبوقير - كل ما سبق) (البجيرة ٢٠١٨)
- (د) من أهم الروعس الأرضية على طول ساحل البحر الأحمر رأس.....
(الحكمة - بناس - الضبعة - علم الروم) (اليوم ٢٠١٨)
- (هـ) من المدن التي تقع على ساحل البحر الأحمر.....
(الغردقة - الإسكندرية - دهمياط - رفح) (البجيرة ٢٠١٩)
- (و) يعرف الخليج ذو المدخل الضيق المتعمق في اليابس باسم.....
(الرأس الأرضي - الخليج - الشرم - البحيرة) (بورسعيد ٢٠١٨)
- (ز) تنمو على ساحل البحر المتوسط أشجار مثل.....
(الزيتون - المانجو - الموز - الماهوجني) (الدقهلية ٢٠١٨)
- (ح) تنمو أشجار..... على ساحل البحر الأحمر.
(الموالج - الماجروف - التين - الأرز) (القاهرة ٢٠١٩)

- ٤ اكتب كلمة (صواب) أمام العبارات الصحيحة، وكلمة (خطأ) أمام العبارات غير الصحيحة فيما يلي:
- (أ) تمتد البيئة الساحلية على البحر المتوسط من شرق مدينة رفح في أقصى الشرق حتى غرب مدينة السلوم غربًا.
(الإسماعيلية ٢٠١٩)
- (ب) تمتد البيئة الساحلية على البحر الأحمر من مدينة رفح شمالاً إلى مدينة حلايب غربًا.
(سوهاج ٢٠١٩)
- (ج) السهول الساحلية على البحر المتوسط ضيقة.
(سوهاج ٢٠١٩)
- (د) يقع رأس الضبعة على ساحل البحر المتوسط.
(بنى سويف ٢٠١٨)
- (هـ) يتميز ساحل البحر المتوسط بوجود خلجان مثل خليج السويس.
(المنوفية ٢٠١٨)
- (و) يعتبر خليج أبوقير وخليج العرب من أهم الخلجان على البحر المتوسط.
(المنوفية ٢٠١٨)
- (ز) تكثر التلال الجيرية على ساحل البحر الأحمر.
(الغربية ٢٠١٨)
- (ح) تنتشر الشعاب المرجانية على طول ساحل البحر المتوسط.
(أسيوط ٢٠١٩)
- (ط) من أهم الأشجار التي تنمو على ساحل البحر المتوسط أشجار المانجروف.
(الشرقية ٢٠١٩)
- (ي) تقل الروعس الأرضية على سواحل البحر الأحمر.
(المنوفية ٢٠١٩)
- (ك) الشرم هو توغل لجزء من البحر في اليابس ويتصل بالبحر بفتحة واحدة.
(المنوفية ٢٠١٩)

٥ اكتب المصطلح الجغرافي الذي تشير إليه العبارات الآتية:

- (أ) توغل لجزء من البحر في اليابس.
(ب) امتداد أرضي من اليابس داخل البحر.
(ج) خليج ذو مدخل ضيق متعمق في اليابس.
(د) رياح شديدة تسبب تقلبات في الجو تستمر لعدة أيام.
(هـ) تكوينات أفرزتها حيوانات بحرية دقيقة على ساحل البحر الأحمر.
(و) شريط سهلي قد يتسع أو يضيق تبعاً لاقتراب الجبال من البحر.
(الأقصر ٢٠١٩)
(الشرقية ٢٠١٩)

٦ صوب ما تحته خط:

- (أ) تهب رياح الخماسين على البحر المتوسط شتاءً.
(ب) يمتد الساحل الشمالي للدلتا من السويس إلى شرق الإسكندرية.
(ج) تنتشر أشجار الزيتون على ساحل البحر الأحمر.
(د) القط البري من الحيوانات التي توجد في البيئة الساحلية للبحر المتوسط.
(هـ) تنتشر التلال الجيرية على ساحل البحر الأحمر.
(سوهاج ٢٠١٩)
(القليوبية ٢٠١٩)
(البحيرة ٢٠١٨)
(قنا، سوهاج ٢٠١٨)
(سوهاج ٢٠١٩)

٧ ما النتائج المترتبة على...؟

- (أ) اقتراب الجبال من خليج العقبة.
(ب) صفاء مياه البحر الأحمر وهدوء حركتها.
(ج) نمو الشعاب المرجانية في البحر الأحمر.
(د) سقوط الأمطار على ساحل البحر المتوسط.
(أسيوط ٢٠١٩)
(الإسماعيلية ٢٠١٩)
(سوهاج ٢٠١٨)
(المنوفية ٢٠١٩)

٨ بم تفسر...؟

- (أ) ضيق السهل الساحلي على خليج العقبة.
(ب) أهمية التلال الجيرية.
(ج) مناخ البيئة الساحلية على البحر المتوسط معتدل طوال العام.
(د) انتشار الشعاب المرجانية على ساحل البحر الأحمر.
(هـ) أهمية الشعاب المرجانية.
(و) قيام الزراعة على طول ساحل البحر المتوسط.
(الشرقية، الأقصر ٢٠١٩)
(القليوبية ٢٠١٩)
(الشرقية، سوهاج ٢٠١٩)
(المنوفية ٢٠١٨)
(الإسكندرية ٢٠١٩)

٩ ما المقصود بالمصطلحات الجغرافية الآتية...؟

- (أ) الرأس الأرضي.
(ب) السهول الساحلية.
(ج) الشعاب المرجانية.
(د) الشرم. (قنا، سوهاج ٢٠١٨)
(هـ) الخليج. (اليوم ٢٠١٩)

أسئلة مميزة
يجيب عنها التلميذ

- أجب عن الأسئلة التالية لتجمع نجوم التفوق:

- ١- حدد أوجه الشبه والاختلاف بين البيئة الصحراوية والبيئة الساحلية من حيث الحيوانات البرية التي تعيش في كل منهما.
٢- ماذا يحدث إذا...؟
(أ) اتسعت السهول الساحلية على البحر الأحمر.
(ب) قل امتداد السواحل في مصر.



الدرس الثاني


الخصائص السكانية للبيئة الساحلية

- القضايا
المتضمنة
- ١- الزيادة السكانية.
 - ٢- السياحة والوعي السياحي.
 - ٣- الوعي القانوني.

أهداف
الدرس

- ١- في نهاية هذا الدرس يتوقع أن يكون التلميذ قادرًا على أن:
 - ١- يعطى تعريفًا صحيحًا للمفاهيم التالية (المدن المليونية - الهجرة غير الشرعية).
 - ٢- يعدد خصائص سكان البيئة الساحلية.
 - ٣- يحدد على خريطة مصر تيارات الهجرة للمدن الساحلية.
 - ٤- يحدد مشكلات السكان بالبيئة الساحلية.
 - ٥- يقترح الحلول المناسبة لهذه المشكلات.
 - ٦- يقدّر جهود الدولة لحل المشكلات السكانية في البيئة الساحلية.
 - ٧- يقدّر أهمية البيئة الساحلية في تنمية وازدهار الاقتصاد المصري.

- القيم
المتضمنة
- ١- الانتماء.



اختبار تراكمي على الدروس السابقة

يجيب
عنه
التلميذ



- (١) أمامك خريطة صماء لمصر، اكتب ما تدل عليه الأرقام بها:
- ١- الصحراء
 - ٢- هضبة يقطعها وادي العلاقي
 - ٣- محمية
 - ٤- رأس

- (ب) اكتب المفهوم الجغرافي الذي تشير إليه كل عبارة من العبارتين الآتيتين:
- ١- خليج ذو مدخل ضيق متعمق في اليابس.
 - ٢- منطقة زراعية توجد وسط الصحراء الغربية وتزرع اعتمادًا على المياه الجوفية.

(الإسكندرية ٢٠١٩)

(١) أكمل العبارات الآتية بالكلمات المناسبة:

- ١- تمتد البيئة الساحلية المطلة على البحر المتوسط من مدينة شرقًا حتى مدينة غربًا.
- ٢- تكثر الشجور على ساحل البحر ، بينما تكثر الرءوس على ساحل البحر
- ٣- أهم النباتات الطبيعية على ساحل البحر الأحمر تتمثل في

(ب) ماذا يحدث إذا...؟

- ١- لم توجد التلال الجيرية على ساحل البحر المتوسط.
- ٢- زادت نسبة التعليم بين أفراد المجتمع في البيئة الصحراوية.

(١) اكتب كلمة (صواب) أمام العبارات الصحيحة، وكلمة (خطأ) أمام العبارات غير الصحيحة فيما يلي:

- ١- تنقسم البيئة الساحلية على ساحل البحر المتوسط إلى ثلاثة أقسام. () (الإسكندرية ٢٠١٩)
- ٢- السيول رياح شديدة وأمطار غزيرة تتسبب في قلب الجو. () (الإسكندرية ٢٠١٩)
- ٣- تنمو شجيرات المانجروف على سواحل البحر المتوسط. () (الجزيرة ٢٠١٩)

(ب) قارن بين:

- ساحلى البحر المتوسط والبحر الأحمر من حيث:
- ١- الامتداد.
 - ٢- الاتساع.

(١) من أشهر الشجور على ساحل البحر الأحمر:

(ب) يرم تفسر...؟

- ١- إقامة سد الروافعة على وادي العريش.
- ٢- ضيق السهل الساحلى على خليج العقبة.

(الإسكندرية ٢٠١٩)

(ج) حدد أين توجد الظواهر الجغرافية الآتية:

- ١- الأودية الجافة.
- ٢- الواحات.
- ٣- جبل مغارة.

تدريبات الكتاب المدرسي

مجاب عنها
٢٥٣ ص

أكمل العبارات التالية بالكلمات المناسبة:

- (أ) تولى سعد زغلول نظارة وعام ١٩١٠م وزارة
 (ب) في ديسمبر ١٩١٤م أعلنت إنجلترا على مصر.
 (ج) يرتبط اسم بالاستقلال الاقتصادي لمصر.
 (د) استطاع طلعت حرب تأسيس
 (هـ) يساهم بنك مصر في تمويل المشروعات

اكتب كلمة (صواب) أمام العبارة الصحيحة، وكلمة (خطأ) أمام العبارة غير الصحيحة فيما يلي:

- (أ) أدى ازدياد الوعي القومي لدى المصريين إلى قيام ثورة ١٩١٩م. ()
 (ب) رفضت سلطات الاحتلال سفر أعضاء الوفد المصري إلى إنجلترا. ()
 (ج) ألقى القبض على سعد زغلول ومجموعة من أعضاء الوفد المصري قبل الحرب العالمية الأولى. ()
 (د) ساعدت رعوس الأموال الأجنبية في التنمية الاقتصادية لمصر. ()
 (هـ) أسس طلعت حرب بنك مصر برعوس أموال مصرية. ()

بم تفسر...؟

- (أ) قيام ثورة ١٩١٩م.
 (ب) الصدام بين أعضاء الوفد المصري وسلطات الاحتلال البريطاني.
 (ج) تعدد ثورة ١٩١٩م ثورة شعبية.
 (د) ارتباط استقلال مصر السياسي باستقلالها الاقتصادي.
 (هـ) أنشأ طلعت حرب بنك مصر عام ١٩٢٠م.

ما النتائج المترتبة على...؟

- (أ) مقاطعة المصريين البضائع الإنجليزية.
 (ب) تصريح ٢٨ فبراير ١٩٢٢ م.
 (ج) رفض مؤتمر الصلح في باريس لمطالب الوفد المصري.
 (د) رفض سلطات الاحتلال البريطاني سفر الوفد المصري إلى مؤتمر الصلح بباريس.
 (هـ) تمويل بنك مصر للصناعات الوطنية.

ما المقصود بالمفهوم التاريخي (استقلال مصر الاقتصادي)؟

مجاب عنها
٢٥٤ ص

تدريبات الأضواء الشاملة على الدرس

أكمل العبارات الآتية بكلمات مناسبة:

- (أ) تولى سعد زغلول نظارة عام ١٩٠٦م.
 (ب) اختير الزعيم وزيراً للحقانية «العدل حالياً» عام ١٩١٠م.
 (ج) انضم سعد زغلول إلى الثورة في فترة شبابه.
 (د) بدأت الحرب في أغسطس عام ١٩١٤م.
 (هـ) عقد بعد الحرب العالمية الأولى مؤتمر الصلح في مدينة

(التوصيف ٢٠١٨)

(سوقهاج ٢٠١٨)

(الجزيرة ٢٠١٨)

(الجزيرة ٢٠١٩)

(الاقصر ٢٠١٩)

(القاهرة ٢٠١٩)

(المنوفية ٢٠١٩)

(ز) نفى سعد زغلول أول مرة إلى جزيرة

(ح) أنشأ بنك مصر عام ١٩٢٠م.

(ط) يرتبط اسم بالاستقلال الاقتصادي لمصر.

(ي) أسس طلعت حرب بنك عام ١٩٢٠م.

(ك) في ديسمبر ١٩١٤م أعلنت إنجلترا على مصر.

اختر الإجابة الصحيحة مما بين الأقواس:

- (أ) تولى سعد زغلول نظارة عام ١٩٠٦م. (الحقانية - الزراعة - المالية - المعارف) (التلويبية ٢٠١٩)
 (ب) قاد الكفاح الوطني ضد الاحتلال البريطاني بعد الحرب العالمية الأولى.
 (مصطفى كامل - محمد فريد - سعد زغلول - أحمد عرابي)
 (ج) اشتركت المرأة لأول مرة في التاريخ الحديث في ثورة (القاهرة الأولى - ٢٥ يناير - ٢٣ يوليو - ١٩١٩م)
 (د) عقد مؤتمر الصلح في مدينة (لندن - باريس - روما - نيويورك) (القهلية ٢٠١٨)
 (هـ) تم نفى سعد زغلول في مارس ١٩١٩م للمرة الأولى إلى جزيرة

(سيشل - مالطة - كريت - شدوان) (أسبوط ٢٠١٩)

(و) نفى سعد زغلول للمرة الثانية إلى جزيرة (مالطة - فرنسا - بريطانيا - سيشل) (جنوب سيناء ٢٠١٦)

(ز) أسس بنك مصر عام ١٩٢٠م. (طلعت حرب - أحمد عرابي - مصطفى كامل - ديليسبس) (المنيا ٢٠١٨)

اكتب كلمة (صواب) أمام العبارة الصحيحة، وكلمة (خطأ) أمام العبارة غير الصحيحة فيما يلي مع التصويب:

()

(أ) عمل سعد زغلول محرراً في جريدة اللواء.

()

(ب) أدى ازدياد الوعي القومي والدعوة إلى التحرر لدى المصريين إلى قيام ثورة ١٩١٩م. (المنوفية ٢٠١٨)

٧- بم تفسر؟

- (أ) قيام ثورة ١٩١٩م .
(ب) تعد ثورة ١٩١٩م ثورة شعبية عامة .
(ج) قطع رجال ثورة ١٩١٩م الخطوط الحديدية والتلغرافية .
(د) تحقيق ثورة ١٩١٩م تطوراً اجتماعياً كبيراً في المجتمع المصري .
(هـ) خيبة آمال المصريين في الحصول على الاستقلال في مؤتمر الصلح في باريس .
(و) مقاطعة المصريين للبضائع والبنوك الإنجليزية .
(ح) إنشاء طلعت حرب لبنك مصر .
(ز) نقص استقلال مصر عام ١٩٢٢م .

٨- دلل تاريخياً على صحة العبارة الآتية.

- ثورة ١٩١٩م ثورة شعبية عامة .

٩- ما النتائج المترتبة على...؟

- (أ) حضور الوفد المصري مؤتمر الصلح بباريس عام ١٩١٩م .
(ب) ثورة عام ١٩١٩م .
(ج) القبض على سعد زغلول ونفيه إلى جزيرة مالطة .
(د) مقاطعة المصريين للبضائع والسفن البريطانية عام ١٩١٩م .
(هـ) نفي سعد زغلول إلى جزيرة سيشل . (و) تصريح ٢٨ فبراير ١٩٢٢م .
(ز) وضع الدستور المصري ١٩٢٣م .
(ح) إنشاء طلعت حرب بنك مصر عام ١٩٢٠م .

أسئلة مميزة



يجيب عنها التلميذ

أجب عن الأسئلة التالية لتجمع نجوم التفوق:

١- دلل تاريخياً على صحة العبارة الآتية:

- أعطى تصريح ٢٨ فبراير ١٩٢٢م لمصر استقلالاً ناقصاً.

٢- ماذا كان يحدث إذا...؟

(أ) أيد مؤتمر الصلح المطالب الوطنية المصرية .

(ب) لم يؤسس طلعت حرب بنك مصر .



- (ج) رفضت سلطات الاحتلال سفر أعضاء الوفد المصري إلى إنجلترا .
(د) تم اختيار سعد زغلول وزيراً للمعارف عام ١٩١٠م .
(هـ) نفي الزعيم سعد زغلول ورفاقه في المرة الثانية إلى جزيرة مالطة .
(و) خيب مؤتمر الصلح في باريس سنة ١٩١٩م آمال المصريين في الاستقلال .
(ز) كانت ثورة ١٩١٩م ثورة شعبية اشترك فيها جميع طوائف مصر .
(ح) انتهت الحماية البريطانية على مصر بعد تصريح ٢٨ فبراير ١٩٢٢م .
(ط) أدرك طلعت حرب أن استقلال مصر مرتبط باستقلالها الاقتصادي .
(ي) أسس طلعت حرب بنك مصر برعوس أموال أجنبية .

٤- اكتب المفهوم التاريخي الذي تشير إليه العبارات الآتية:

(أ) حرب قامت بين دول عظمى استمرت من عام ١٩١٤م - ١٩١٨م .

(ب) مؤتمر عقدته الدول الأوروبية بعد الحرب العالمية الأولى للنظر في الأوضاع السياسية بعد انتهاء الحرب .

(ج) مجموعة المبادئ والقواعد التي تحدد نظام الحكم في الدولة .

(د) عدم تبعية مصر اقتصادياً لدولة أجنبية واعتمادها على رعوس أموالها الوطنية .

٥- صوب ما تحته خط:

(أ) أعلن الرئيس الأمريكي كارتر مبادئه ومنها حق الشعوب في تقرير مصيرها .

(ب) تم تشكيل أول حكومة دستورية في مصر ١٩٢٤م برئاسة مصطفى كامل .

(ج) تأسس بنك مصري في إبريل ١٩٢٠م على يد سعيد باشا .

(د) رفضت سلطات الاحتلال سفر أعضاء الوفد المصري إلى لندن .

٦- اِل من تتسب الأعمال التاريخية الآتية...؟

(أ) تولي نظارة المعارف ١٩٠٦م، وعمل وزيراً للحقانية ١٩١٠م .

(ب) عمل محرراً في جريدة الوقائع المصرية ثم تولي نظارة المعارف عام ١٩٠٦م .

(ج) زعيم وطني تم نفيه إلى جزيرة مالطة ١٩١٩م .

(د) أصدرت تصريح ٢٨ فبراير ١٩٢٢م واعترفت فيه بمصر دولة مستقلة ذات سيادة (شكلياً) .

(هـ) شكل أول حكومة دستورية في مصر عام ١٩٢٤م .

(و) أسس بنك مصر .

(ز) رئيس أمريكي أعلن مبدأ حق الشعوب في تقرير مصيرها .

(الجيزة، البحيرة ٢٠١٨)

(سوهاج ٢٠١٨)

(الإسكندرية ٢٠١٨، القليوبية ٢٠١٩)

(السويس ٢٠١٨)

(المنوفية ٢٠١٩)

(الإسكندرية ٢٠١٨)

(المنوفية، سوهاج ٢٠١٨)

(اسيوط ٢٠١٨)

(القاهرة ٢٠١٨)

(الغربية ٢٠١٨)

(دمياط ٢٠١٨)

(الغربية، المنوفية ٢٠١٨)

(الغربية، دمياط ٢٠١٨)

(اسيوط ٢٠١٩)

(الشرقية ٢٠١٩)

تدريبات الكتاب المدرسي

مجاب عنها
٢٥٦ ص

أكمل العبارات الآتية بكلمات مناسبة:

- قامت إسرائيل ومعها إنجلترا وفرنسا بالعدوان الثلاثي على في عام ١٩٥٦ م.
- قامت وحدة بين و عام ١٩٥٨ م.
- تم افتتاح في عام ١٩٧١ م.

اكتب كلمة (صواب) أمام العبارة الصحيحة، وكلمة (خطأ) أمام العبارة غير الصحيحة فيما يلي:

- ساندت ثورة ٢٣ يوليو ١٩٥٢ حركات التحرر الوطني في آسيا وإفريقيا.
- تم جلاء القوات البريطانية عن مصر في عام ١٩٥٤ م.
- أعلن تأميم شركة قناة السويس في يوليو ١٩٥٦ م.
- أصدرت حكومة ثورة يوليو قانون الإصلاح الزراعي.
- احتلت إسرائيل الضفة الغربية لقناة السويس بعد عدوان ١٩٦٧ م.

رتب الأحداث التاريخية من القديم إلى الحديث:

- تأميم شركة قناة السويس.
- العدوان الإسرائيلي على مصر.
- افتتاح السد العالي.
- صدور قانون الإصلاح الزراعي.

بم تفسر...؟

- تأسيس تنظيم الضباط الأحرار.
- قيام العدوان الثلاثي على مصر.
- قيام ثورة يوليو ١٩٥٢ م.
- فشل العدوان الثلاثي على مصر ١٩٥٦ م.

تدريبات الأضواء الشاملة على الدرس

مجاب عنها
٢٦١ ص

أكمل العبارات التالية بالكلمات المناسبة:

- قانون الإصلاح الزراعي من الإنجازات لثورة ٢٣ يوليو ١٩٥٢ م.
- تحولت مصر بعد ثورة يوليو ١٩٥٢ م من النظام الملكي إلى النظام
- تم عقد اتفاقية بين مصر وبريطانيا في عام ١٩٥٤ م.
- يعد من أهم إنجازات ثورة ٢٣ يوليو ١٩٥٢ القضاء على النظام الملكي وإعلان
- سوء توزيع الثروات من الأسباب لقيام ثورة يوليو ١٩٥٢ م.
- من أهداف ثورة يوليو القضاء على وإقامة
- قضى قانون على الإقطاع في مصر.
- قامت إسرائيل ومعها إنجلترا وفرنسا بالعدوان الثلاثي على عام ١٩٥٦ م.

اكتب كلمة (صواب) أمام العبارة الصحيحة، وكلمة (خطأ) أمام العبارة غير الصحيحة فيما يلي:

- استمرار الاحتلال البريطاني من الأسباب السياسية لقيام ثورة ١٩٥٢ م. ()
- كون بعض الضباط تنظيم الضباط الأحرار للقيام بثورة ١٩٥٢ م. ()
- أصدرت حكومة ثورة يوليو قانون الإصلاح الزراعي الأول ١٩٥٢ م. ()
- قامت ثورة يوليو ١٩٥٢ بتحويل مصر من النظام الجمهوري إلى الملكي في يونيو ١٩٥٣ م. ()
- قامت بين مصر وفلسطين وحدة عام ١٩٥٨ م. ()
- قام جمال عبدالناصر بتأميم قناة السويس في يوليو ١٩٥٦ م. ()
- تأمرت إنجلترا وفرنسا وإسرائيل على مصر بعد تأميم شركة قناة السويس. ()
- فشل العدوان الثلاثي في تحقيق أهدافه. ()
- ساندت ثورة ٢٣ يوليو حركات التحرر الوطني في آسيا وإفريقيا. ()
- احتلت إسرائيل الضفة الغربية لقناة السويس بعد عدوان ١٩٦٧ م. ()

اكتب المفهوم التاريخي الذي تشير إليه العبارات الآتية:

- تنظيم أسسه جمال عبدالناصر يضم الضباط الوطنيين في الجيش المصري.
- توزيع الثروات القومية بين المواطنين توزيعاً عادلاً.
- عدوان شنته إنجلترا وفرنسا وإسرائيل على مصر.

إلى من تنسب الأعمال التاريخية الآتية...؟

- أسس تنظيم الضباط الأحرار الذي قاد ثورة ٢٣ يوليو ١٩٥٢ م.
- قام بتأميم شركة قناة السويس في يوليو ١٩٥٦ م.

٥ صوب ما تحته خط:

- (أ) تنظيم الضباط الأحرار هو الذى قام بثورة ٢٥ يناير.
(ب) من إنجازات ثورة ٢٣ يوليو عام ١٩٥٢م بناء الصناعات البسيطة.
(ج) أقيمت وحدة بين مصر وفلسطين عام ١٩٥٨م.
(د) اشتركت فرنسا وإيطاليا وإسرائيل في العدوان الثلاثى على مصر عام ١٩٥٦م.
(هـ) عقدت اتفاقية الجلاء مع روسيا لجلاء قواتها من مصر سنة ١٩٥٤م.

٦ اختر الإجابة الصحيحة مما بين الأقواس:

- (أ) من أسباب سوء حالة مصر قبل ثورة ١٩٥٢م
(ب) من أسباب ثورة ٢٣ يوليو ١٩٥٢م السياسية
(ج) قامت وحدة بين مصر و عام ١٩٥٨م.
(د) تم تأميم شركة في يوليو عام ١٩٥٦م.
(هـ) هى توزيع الثروات بين المواطنين توزيعاً عادلاً.
(و) كان للرئيس جمال عبد الناصر دور في تأسيس

- (ز) من مبادئ ثورة ٢٣ يوليو ١٩٥٢م القضاء على وأعوانه.
(ح) عقدت اتفاقية الجلاء بين مصر و سنة ١٩٥٤م.
(ط) (بريطانيا - إسرائيل - ألمانيا - فرنسا) (المنيا ٢٠١٩)

٧ يـم تفسـر...؟

- (أ) تأسيس تنظيم الضباط الأحرار الذى قاد ثورة ٢٣ يوليو ١٩٥٢م.
(ب) قيام ثورة يوليو ١٩٥٢م.
(ج) سوء الأوضاع السياسية في مصر قبل ثورة ٢٣ يوليو ١٩٥٢م.

- (د) العدوان الثلاثى على مصر ١٩٥٦م.
(هـ) فشل العدوان الثلاثى على مصر.

٨ ما النتائج المترتبة على...؟

- (أ) تأميم شركة قناة السويس في يوليو ١٩٥٦م.
(ب) العدوان الثلاثى على مصر.
(ج) العدوان الإسرائيلى على مصر ١٩٦٧م.
(د) مناصرة مصر حركات التحرر الوطنى في آسيا وإفريقيا.

٩ قارن بين:

- الثورة العربية ١٨٨١م - ثورة ٢٣ يوليو ١٩٥٢م: من حيث: الأسباب والنتائج.

١٠ ما المقصود بالمصطلحات التاريخية الآتية...؟

- (أ) العدالة الاجتماعية.
(ب) تنظيم الضباط الأحرار.

١١ حدد:

- ١- إنجازات ثورة ٢٣ يوليو ١٩٥٢م.
٢- الأسباب الاجتماعية لثورة ٢٣ يوليو ١٩٥٢م.

أسئلة مميزة
يجيب عنها التلميذ

أجب عن الأسئلة التالية لتجمع نجومك التفوق:
١- ماذا كان يحدث إذا...؟

- لم يتم تأسيس تنظيم الضباط الأحرار.

- دلل تاريخياً على صحة العبارتين:

(أ) حققت ثورة ٢٣ يوليو ١٩٥٢م مبدأ العدالة الاجتماعية.

(ب) استطاعت ثورة ٢٣ يوليو ١٩٥٢م القضاء على الاستعمار.

